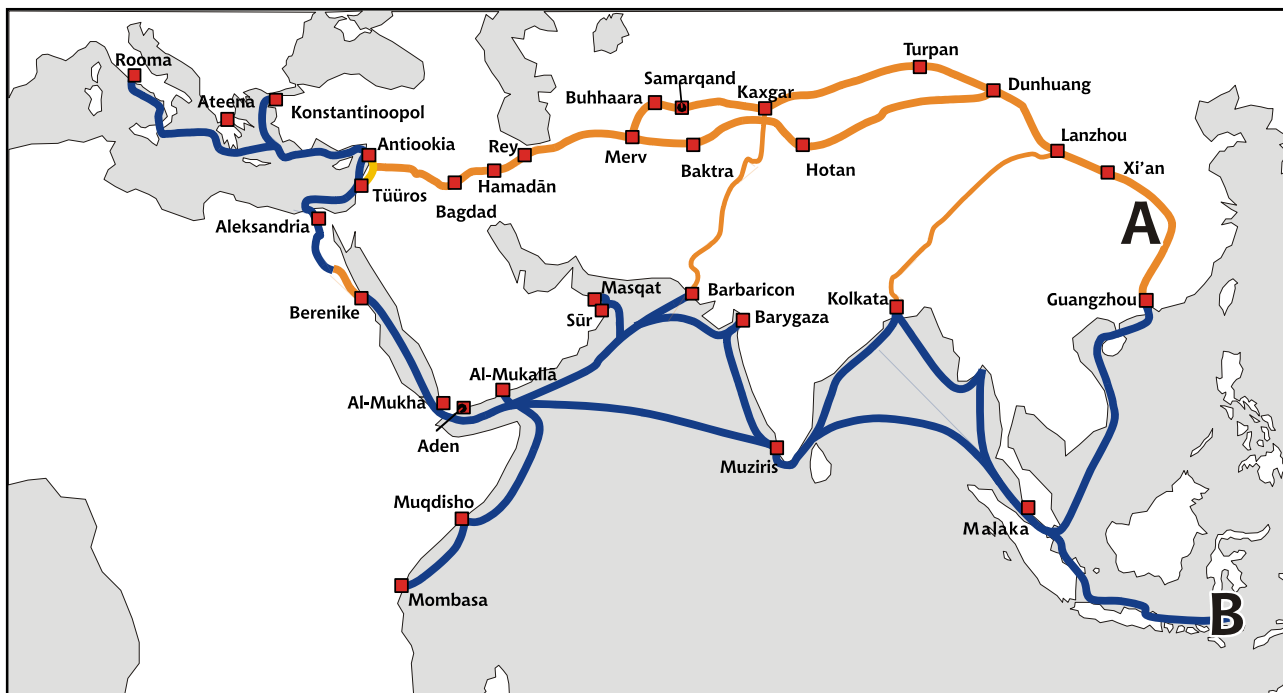
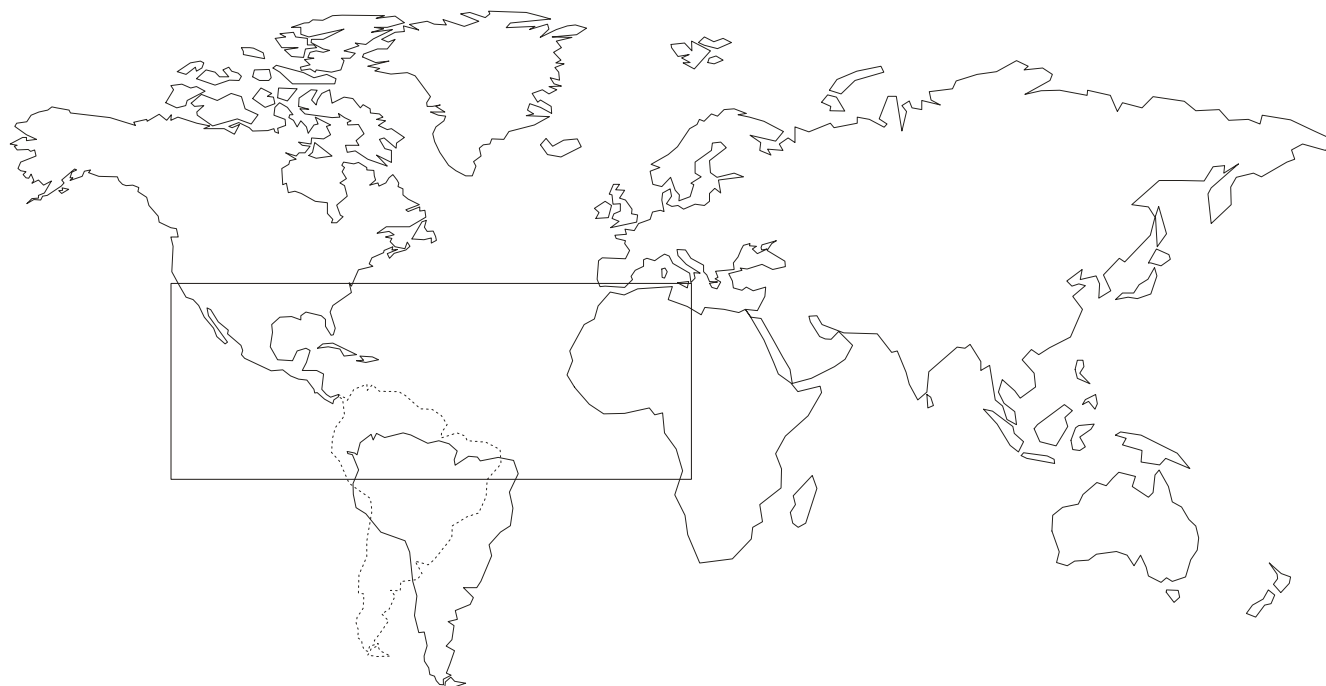


Geograafiaolümpiaadi lõppvooru küsimused gümnaasiumile

- 1) a) Pealkirjasta kaart.
- b) Nimeta, millist ajaperioodi kaart kirjeldab?
- c) Mida veeti välja tähtedega A ja B märgitud piirkondadest? 5 punkti



- 2) Kuidas kulgeksid suuremad hoovused kaardil tähistatud alas, kui Lõuna-Ameerika asuks näidatud kohas? Kanna kaardile eri leppemärkidega (värvidega) soojad ja külmad hoovused (tugevamad hoovused tähista rasvasema joonega).
 Praegune mandri asukoht on märgitud punktiiriga. 3 punkti



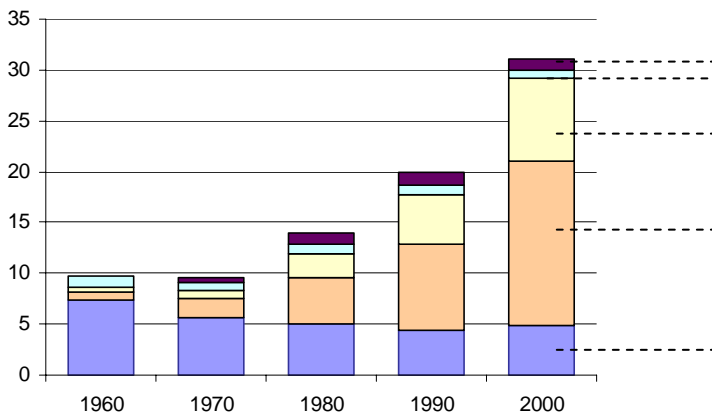
3) Euroopa riigid on ajaloo jooksul korduvalt kolunud oma pealinna ühest linnast teise. Nimeta kolm riiki, mis on pealinna vahetanud, ning lisa juurde varasemate pealinnade nimed.

3 punkti

- a)
- b)
- c)

4) Joonisel on kujutatud välismaal sündinud inimeste arvu USA rahvastikus eri aastatel (miljonites). Märki diagrammile värvide seletus: "Euroopa", "Ladina-Ameerika", "Põhja-Ameerika", "Aasia", "teised regioonid"

4 punkti



5) Eestis toodetakse ja müüakse toidupooides allnimetatud valmisroogasid. Neist vähemalt kahe nimed on eksitavad - roanimes mainitud kohas neid kindlasti ei valmistata ega süüa, nende toorainet pole võimalik sealtkandist leida. Nimeta need kaks ja põhjenda oma valikut.

- | | | |
|-------------------------|-----------------------------|---------------------------|
| Kurzeme strooganov | Pihkva pilaff | Habaja hakklihakaste |
| Palermo pasta | Mammaste maksakaste | México veisekaste ubadega |
| Samarkandi sealihakaste | Taipei kanakaste | Monaco mereannipasta |
| Bologna pasta | Mahtra makaronid hakklihaga | Pattaya kanapada |
| Sumatra sealihapada | Ümera ühepajatoit | Talvine metsseakaste |

..... 3 punkti

6) Milliseid tagajärgi tõi Doonaule kui rahvusvahelisele veetele kaasa nn raudne eesriie ja Jugoslaavia kodusõda?

3 punkti

raudne eesriie.....

Jugoslaavia kodusõda.....

7) Millised majandussidemed on Eestil Ghana ja Côte d'Ivoire'iga?

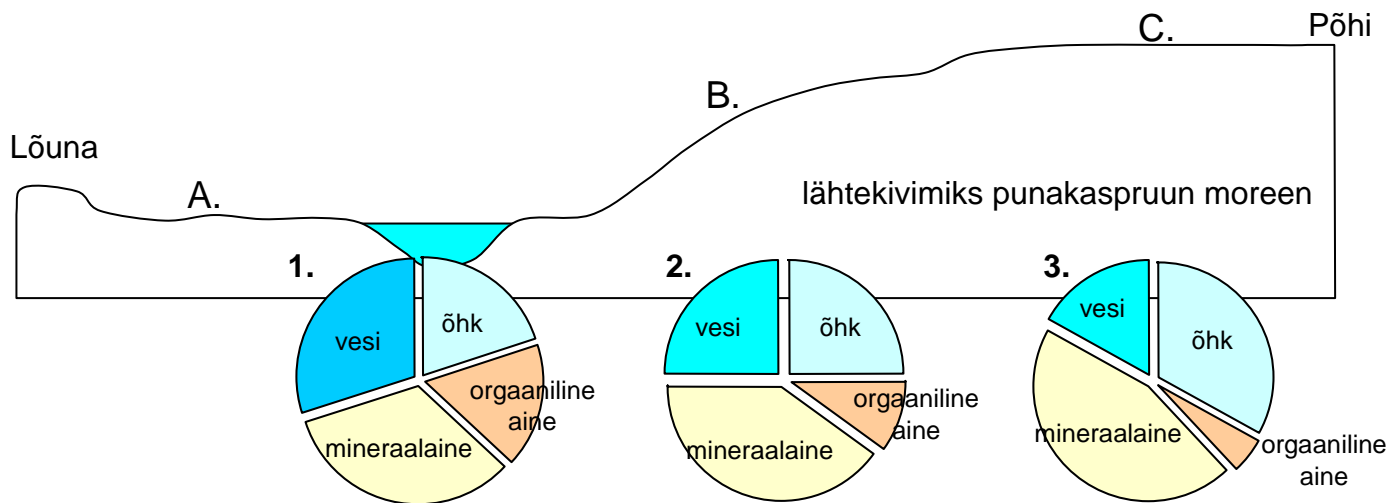
2 punkti

8) Milline kaartidest, mis on koostatud samajoonte meetodil kujutab tegelikke nähtusi(A), milline abstraktseid nähtusi (B)?

4 punkti

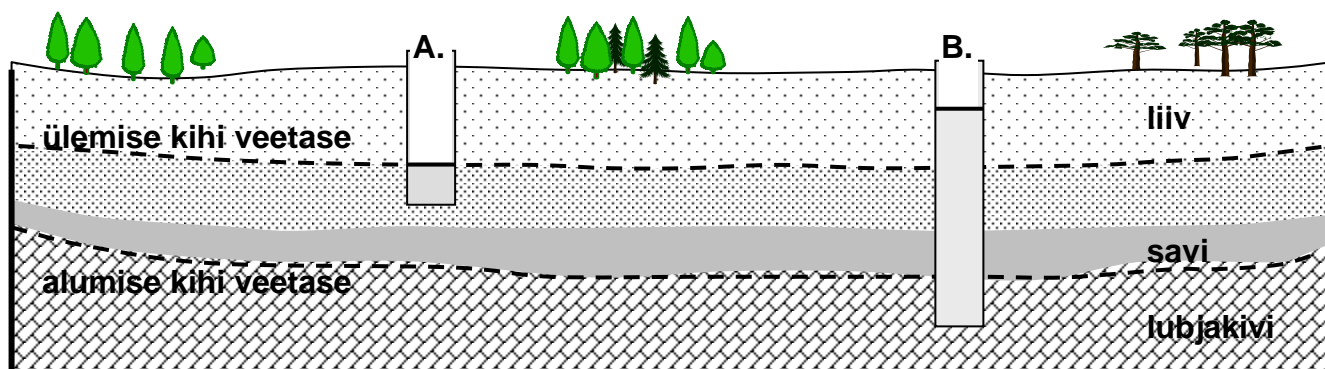
- reljeefikaart
- kaart, kus on kujutatud äravoolu hulka pinnaühiku kohta
- jõgedevõrgu tiheduse kaart
- aasta keskmine sademete hulk

- 9) a) Milline mulla koostise joonis millist kohta iseloomustab? Selgita mulla koostisosade erinevat jaotumist neis muldades. 6 punkti
 b) Mis tegurid tähtedega märgitud kohtades mulla kujunemist mõjutavad?
 c) Milliste omadustega mullad neis kohtades tõenäoliselt kujunevad?



	A	B	C
Joonise nr.			
Selgitus			
Tegurid			
Mulla omadused			

- 10) Miks kaevus B on veetase kõrgem kui kaevus A? 3 punkti



.....

.....

.....

11) Kaardi kujutusviisid. Vii kokku õiged paarid.

3 punkti

1. isohüpsid 2. isohüeedid 3. isobaarid 4. isotermid 5. isobaadid 6. isokroonid

Temperatuur	Sademete hulk
Õhurõhk	Maapinna kõrgus
Veekogu sügavus	Aja muutuse jooned

12) Mis linnadega on tegemist?

3 punkti

_____ – asub suurel jõel; linnas on kohtunud USA ja Venemaa president; üks tuntumaid ehitisi on vantsild, mille ülaosas asub kohvik; linna teletornist on näha kolme riigi territoorium; on olnud Ungari pealinn

_____ — jõe suudmes asuv suur sadamalinn; enamuse/suur osa linnast hävis II ms ajal; pärast "raudse eesriide" langemist jäi sadam ilma suurest osast oma teeninduspiirkonnast, praegu on "eesriide"-eelne olukord taastunud

_____ — pikka aega olnud pääsuks "läände"; tuntud ka kui kindlus läänest peale tunginud vägede vastu II ms ajal; omab "nimekaimu" maailmajao lääneosas

_____ — linn jõel, mille nimi saksa keeles on Moldau; keskajal kutsuti teda "linnade emaks" (*mater urbium*); siit lahvatas Saksamaad tühjendanud Kolmekümneaastane sõda (1618-1648); on olnud seotud mitmete revolutsioonide ja revolutsiooniliste liikumistega nii 15. kui ka 20. sajandil

_____ — riigi värav põhjapoolsetele meredele, mille kaudu suheldi põhjapoolse Euroopaga; suure põhja voolava jõe deltas; riigi keskusest küllaltki kaugel, kuid muude väljapääsude puudumisel olnud sajandeid siiski parim väljapääs maailmamerele; "peaingli linn"

_____ — "toomkirikulinn"; rajatud roomlaste piirikindlusena; sagedased üleujutused; rahvusvahelise veetee ääres; andnud nime ühele kosmeetikatööstuse tootele, mis eesti keeles tuntud nii saksa- kui ka prantsuskeelse nimega