

Geograafiaolümpiaadi lõppvoorü küsimused 9. klassile

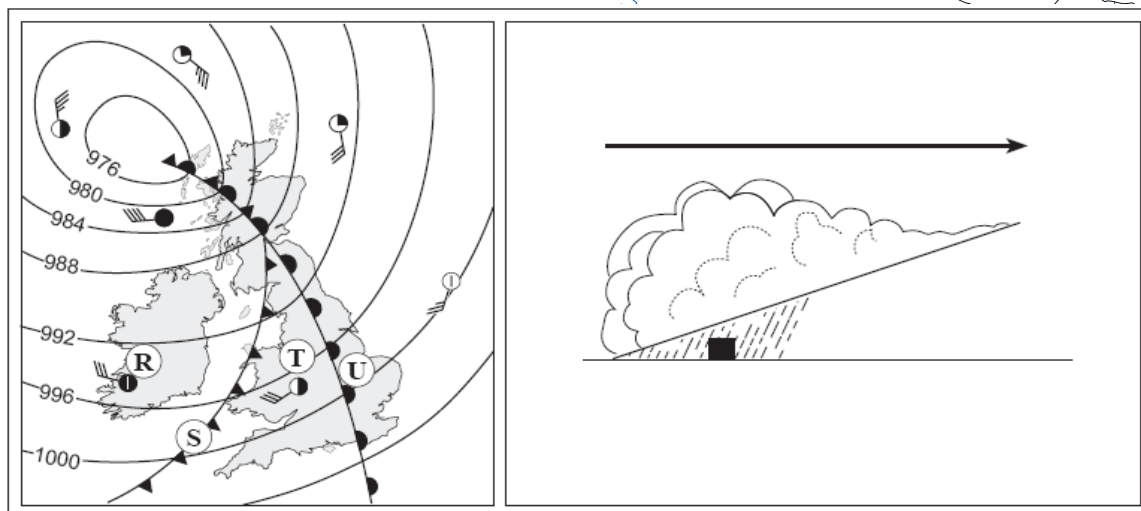
ILMA ATLASETA!

1) Kanna Läänemere piirkonna kaardile kašuubide, vepslaste, karjalaste asualad. *3 punkti*

2) Tähistä Euroopa kontuuril okas-, sega- ja laialehiste metsade vöänd. *3 punkti*

3) Piiritle Skandinaaviast lähtunud Valdai jäätumise ala. *1 punkti*

4) Tähistä Briti saarte kaardil
 a) soe ja külm front,
 b) märgi, kas tegemist on kõrg- või madalrõhualaga,
 c) näita nooltega tuulte suund;
5 punkti



d) iseloomusta ilma toodud punktides;

	R	S	T	U
pilvisus, sademed				
tuule suund				

e) mis tähega on tähistatud kaardi kõrval olev läbilõikejoonis?

5) Miks on suurim pikkuskraadi number 180, kuid laiuskraadi number vaid 90? 2 punkti

.....

.....

6) Milliste loodusjõudude mõjul võib tekkida taoline olukord? 2 punkti

.....

.....

.....

.....



7) a) Millal on ööpäeva jooksul tuul kõige tugevam. Selgita. 2 punkti

.....

.....

b) Mis kuudel on Eestis kõige tugevamad tuuled? Põhjenda. 2 punkti

.....

.....

8) Miks on Põhja-Eesti poolsaared loode-kagu-suunalised, Soome lõunaranniku poolsaared aga kirde-edela-suunalised? 3 punkti

.....

.....

9) Miks Narva linna ei rajatud Narva jõele praegusest asukohast üles- ega allavoolu? 2 punkti

.....

.....

10) Millised majandussidemed on Eestil Ghana ja Côte d'Ivoire'iga? 2 punkti

.....

.....

11) Miks olid Läti keskkonnakaitsjad vastu naftasadama rajamisele Leedusse Palangast põhja pool asuvasse Būtingesse? 2 punkti

.....

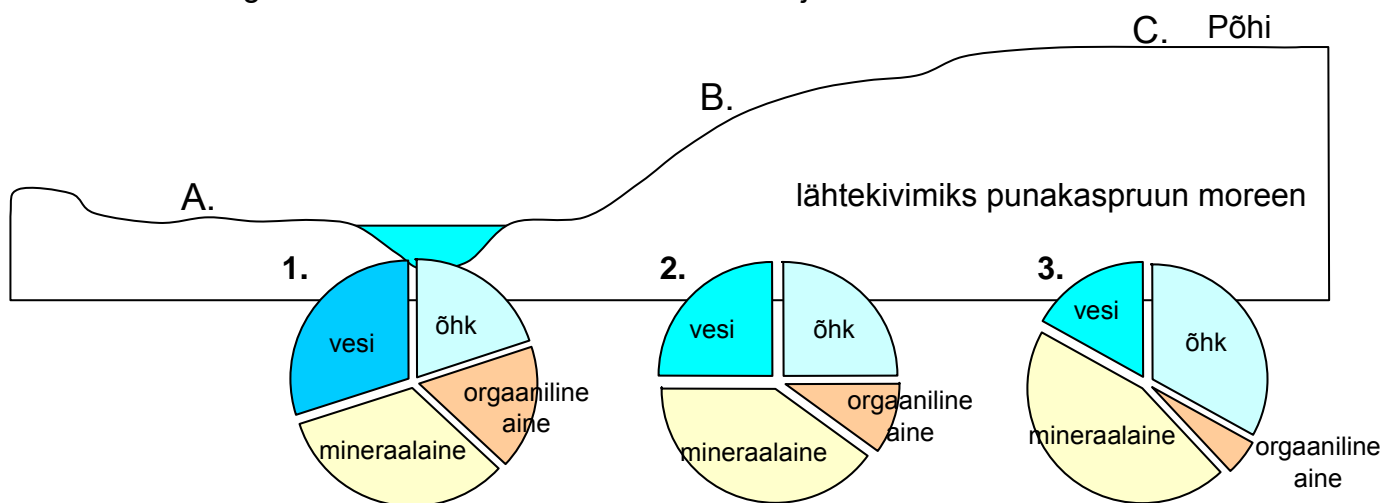
.....

12) Milliseid tagajärgi tõi Doonaule kui rahvusvahelisele veeteele kaasa nn raudne eesriie ja Jugoslaavia kodusõda? 2 punkti

.....

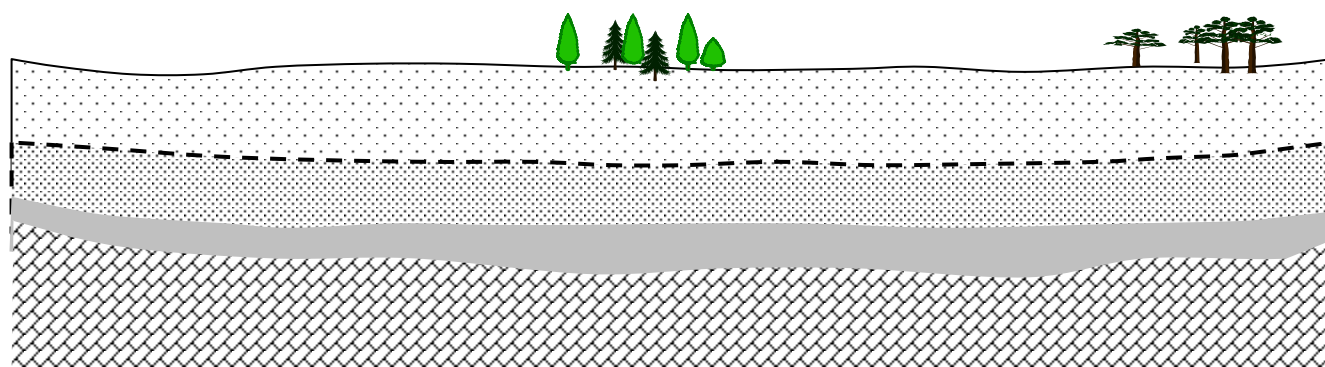
.....

- 13) a) Milline mulla koostise joonis millist kohta iseloomustab? Selgita mulla koostisosade erinevat jaotumist neis muldades. 6 punkti
 b) Mis tegurid tähtedega märgitud kohtades mulla kujunemist mõjutavad?
 c) Milliste omadustega mullad neis kohtades tõenäoliselt kujunevad?



	A	B	C
Joonise nr.			
Selgitus			
Tegurid			
Mulla omadused			

- 14) Miks kaevus B on veetase kõrgem kui kaevus A? 3 punkti



.....

.....

.....

- 15) Miks on Raplamaa vapil just sellised värvid? 2 punkti

.....

.....