

**Geograafiaolümpiaadi lõppvooru küsimused 8. klassile**

**ILMA ATLASETA!**

1) Tähista Euroopa kontuuril okas-, sega- ja laialehiste metsade vöönd.

6 punkti

2) Märki kaardile võimalikult täpselt:

4 punkti

- A. Berliin
- B. Viin
- C. Bukarest
- D. Moskva

3) Kanna samale kaardile saamide, vepslaste ja karjalaste asualad.

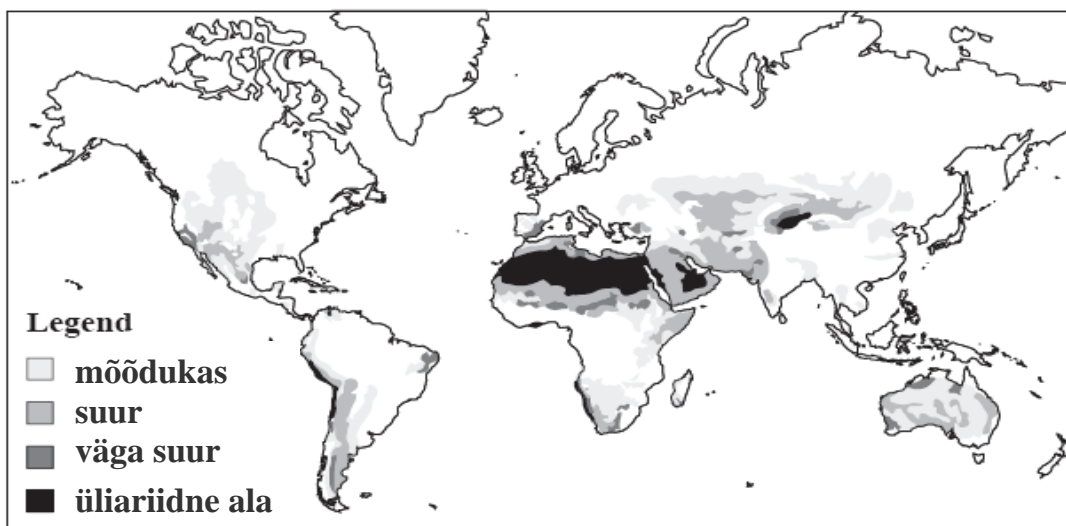
3 punkti



4) Mis protsessiga on tegemist? Kirjuta kaardile pealkiri.

3 punkti

.....

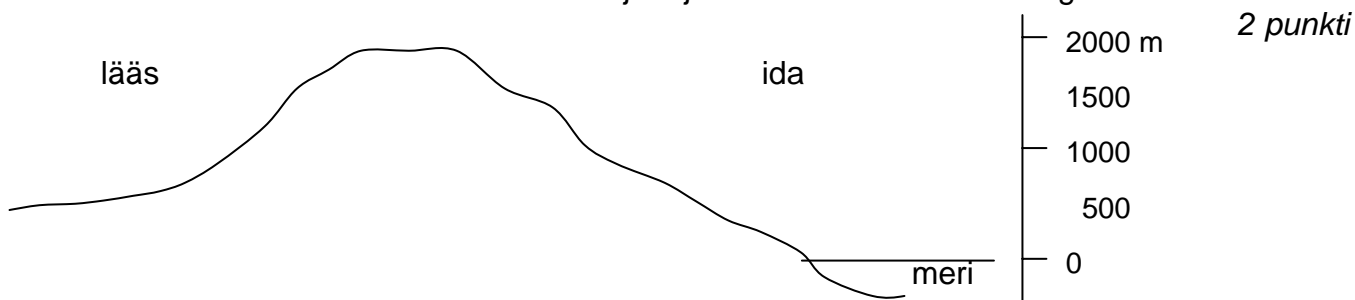


5) Mille poolest erinevad karstiallikad tavalistest allikatest?

3 punkti

karstiallikas	tavaline allikas
1.	
2.	
3.	

6) Joonisel on kujutatud põhja-lõuna-suunaline 2000 m kõrgune mäestik, mis paikneb 20ndatel lõunalaiustel mandri idaosa rannikul. Kujuta joonisel selle mäestiku kõrgusvööndeid.



2 punkti

7) Ühes loodusvööndis kasvavad omapärased nn seelikuga kuused. Mis loodusvööndile on need iseloomulikud ja miks on nad sellise kujuga.

3 punkti

.....

.....

.....

8) Too vähemalt neli näidet, kuidas takistab igikelts e kirsmaa inimese elu ja tegevust selle esinemispiirkonnas.

4 punkti

a) .....

b) .....

c) .....

d) .....

9) Miks Kaug-Ida jõgedel esineb suurvesi suvekuudel?

2 punkti

.....

.....

10) Iseloomusta ja selgita rahvastiku paiknemist Brasiilias.

4 punkti

.....

.....

.....

11) Mis riikidega on tegemist? Paiguta toodud faktid ja väited õige riigi juurde.

6 punkti

asub kahe suure jõe ühises deltas;	selles riigis asuvad maailma veerikkaima jõe lähtejõed;	siin asuv platoo on andnud nime karstile

**A.** maailma tähtsaim kalapüügimaa; **B.** rahaihikuks on tolar, **C.** rahvastik tegeleb peamiselt põllumajandusega, **D.** riigi ametlike keelte hulka kuulub ketšua keel, **E.** riigi pealinn on sama suur kui Tallinn, **F.** riigi sümboliks on kolmetipuline mägi ja riigi kaks suuremat jõge, **G.** riigil on 46 km rannajoont, **H.** rikkalikud maavarade leiukohad; **I.** valitseb ekvatoriaalne mussoonkliima, **J.** vanimaid kartulikasvatuspäirkondi, **K.** üks maailma tihedamini asustatud piirkondi;

12) Joonistel on kujutatud päikesekiirte langemist suvisel pööripäeval neljas eri kohas: Paides, Rio de Janeiros, Singapuris ja Kolkatas (Calcuttas). Vii pilt kokku õige kohaga. 4 punkti



13) Mis Euroopa linnadega on tegemist? 3 punkti

\_\_\_\_\_ — riigi värav põhjapoolsetele meredele, mille kaudu suheldi põhjapoolse Euroopaga; suure põhja voolava jõe deltas; riigi keskusest kaugel, kuid muude väljapääsude puudumisel olnud sajandeid siiski parim väljapääs maailmamerele; "peaingli linn"  
 \_\_\_\_\_ — "toomkirikulinn"; rajatud roomlaste piirikindlusena; sagedased üleujutused; rahvusvahelise veetee ääres; andnud nime ühele kosmeetikatööstuse tootele, mis eesti keeles tuntud nii saksa- kui ka prantsuskeelse nimega

14) Vii kokku mäestiku pilt (värviline joonis 1) õige nimega. Põhjenda oma valikuid. 6 punkti

Himaalaja .....  
 Andid.....  
 Alpid.....  
 Skandinaavia mäestik.....

15) Millisel joonisel (värviline joonis 2) on kujutatud temperatuuride jaotumist juulis, millisel veebruaris? Selgita. 4 punkti

.....  
 .....  
 .....

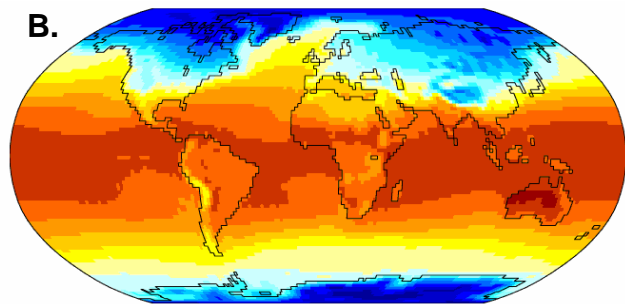
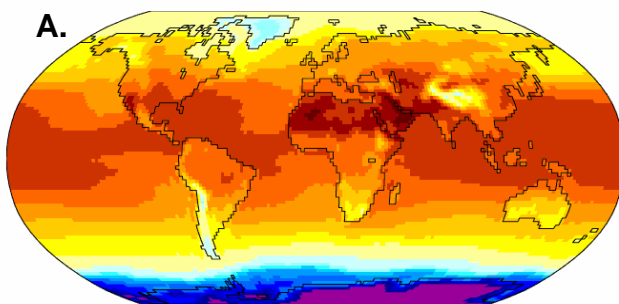
16) Mis kohtadega on tegemist (värviline joonis 3)? Kirjuta pildi number kaardile õigesse kohta. 5 punkti



Joonis 1



Joonis 2



Joonis 3



