

Имя и фамилия

Школа Учитель

Вопросы уездного тура олимпиады по географии для 7 класса

1. Куда ты попадешь, если будешь двигаться от южной оконечности Найссаара (Naissaare) 38 км по азимуту 82 градуса? 26
2. Какая модель Земли содержит меньшие искажения: карта мира или глобус? Подчеркни правильный ответ. **КАРТА МИРА – ГЛОБУС** 36

Обоснуй свой ответ

.....

.....

3. Прочти текст и ответь на вопросы. 36

- a. Что это за географический объект?
- b. О каких государствах идет речь?

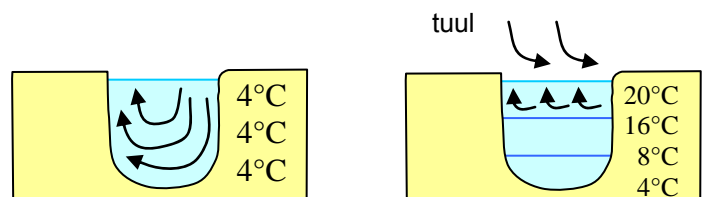
Его начали строить в 1880 году, а в 1914 году по нему прошел первый корабль. До этого судам приходилось огибать материк. До 1999 года это сооружение принадлежало одному государству, а теперь другому, которое имеет то же название, что и сооружение.

4. В связи с чем части света получили свои названия? Соедини линиями подходящие пары. 66

<i>Европа</i>	<i>по названию племени из окрестностей Карфагена</i>
<i>Азия</i>	<i>с неизвестной южной землей</i>
<i>Африка</i>	<i>по имени путешественника</i>
<i>Америка</i>	<i>с противоположностью Арктике</i>
<i>Австралия</i>	<i>с закатом</i>
<i>Антарктида</i>	<i>с восходом</i>

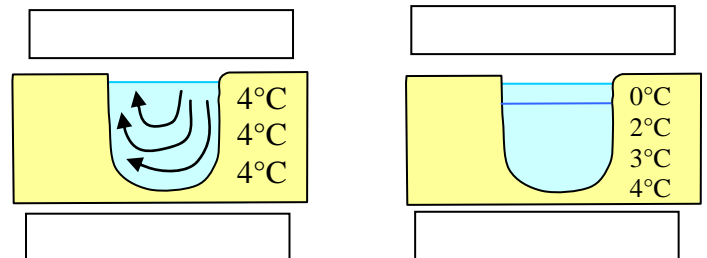
5. Придумай для схемы подходящее название: 26

- a. Напиши в пустые рамки под рисунками соответствующие им времена года. 26



- b. В каких случаях, из перечисленных ниже, эта схема недействительна? Подчеркни эти случаи в перечне. 46

- река
- глубоководное озеро жарким летом
- глубоководное озеро холодной зимой
- мелкое озеро с родниковым питанием теплой зимой
- мелкий пруд холодной зимой
- болотное озерко
- канава



6. Назови трех путешественников-первооткрывателей родом из Эстонии. 3 б

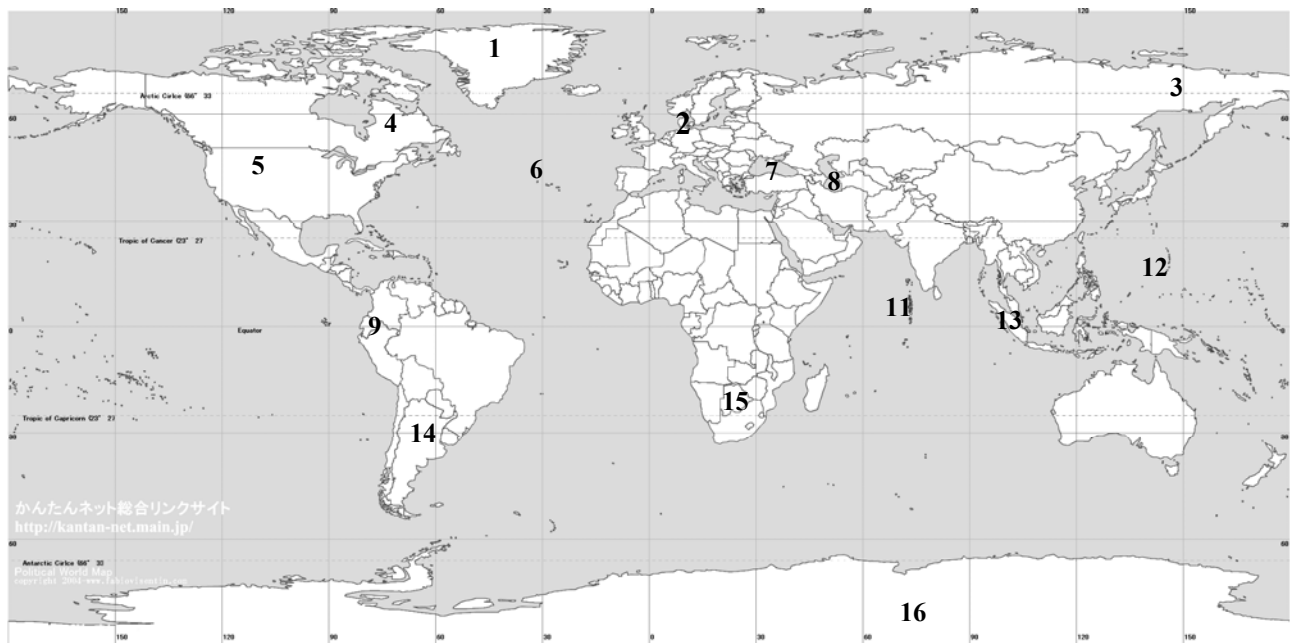
7. Сравни реки Пярну (Pärnu) и Лообу (Loobu) 6б

Показатель	Река Пярну (Pärnu)	Река Лообу (Loobu)

8. 17 июля 2009 г. в 9.18 по всемирному времени произошло землетрясение на границе Эквадора (Ecuador) и Колумбии (Colombia) силой 4.6 магнитуды. Во сколько произошло землетрясение по местному времени? 2б

9. Снабди каждую характеристику соответствующим ей номером на карте. Номеров больше, чем характеристик! 7б

Полюс холода Северного полушария; самое близкое к Солнцу место на Земле....; самое большое по площади озеро....; самая глубокая впадина....; единственная, кроме Эстонии, страна с сине-черно-белым флагом....; государство, которому принадлежит крупнейший в мире остров....; государство, правительство которого провело подводное заседание, для привлечения внимания к потеплению климата....



10. Что означают названия Низкая Эстония (Madal-Eesti) и Высокая Эстония (Kõrg-Eesti)?

..... 2 балла

11. Для каких из перечисленных мест характерны показанные на фотографиях ландшафты? Напиши соответствующую букву. Поясни свое решение. 6 балла

Южная Эстония Объяснение:

Острова Объяснение:

Северная Эстония Объяснение:

Восточная Эстония Объяснение:



12. Нарисуй разрез русла реки с быстрым течением и его вид сверху. Назови две реки с быстрым течением (в Эстонии). 6б

13. Объясни, почему в Эстонии полюс холода находится в Йыгева (Jõgeva), а не на полуострове Сырве (Sõrve). 2б

.....
.....
.....