

Nimi

Kool Õpetaja

Geograafiaolümpiaadi maakonnavoore küsimused 7. klassile

1. Kuhu jõuad, kui liigud Naissaare lõunatipust 38 km asimuudil 82 kraadi? 2 punkti
.....
2. Kumb, kas maailmakaart või gloobus, on väiksemate moonutustega mudel Maast? Tõmba õigele vastusele joon alla. MAAILMAKAART või GLOOBUS 3 punkti
Põhjenda oma vastust
3. Loe tekst läbi ja otsusta loetu põhjal: 3 punkti
 - a. Mis geograafilise objektiga on tegemist?
 - b. Mis riikidest on tekstis jutt?

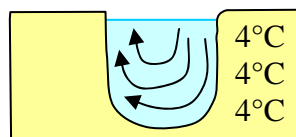
Seda hakati ehitama 1880. aastal ja 1913 sõitis sealt esimene laev läbi. Ilma selle ehitusega tuleks laevaga sõita ümber mandri. See ehitis kuulus kuni 31. detsembrini 1999 ühele riigile, kuid nüüd on antud rajatisega sama nime kandva riigi hoolde.
4. Mis märksõnade järgi on saanud maailmajaod oma nimed? Ühenda joonega õiged paarid. 6 punkti

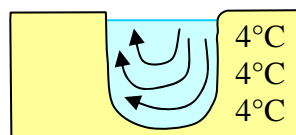
<i>Euroopa</i>	<i>Kartaago ümbruses elava hõimu nime järgi</i>
<i>Aasia</i>	<i>tundmatu maa</i>
<i>Aafrika</i>	<i>maadeuurija eesnime järgi</i>
<i>Ameerika</i>	<i>vastand Arktikale</i>
<i>Austraalia</i>	<i>loojang</i>
<i>Antarktika</i>	<i>päikesetõus</i>
5. Kirjuta joonisele sobiv pealkiri: 2 punkti
.....

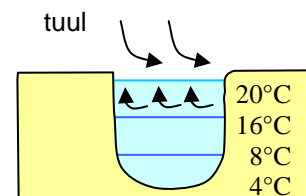
a. Märki joonisele tühjadesse kastidesse õiged aastaajad. 2 punkti

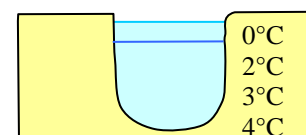
b. Mis tingimustele see skeem EI kehti? Tõmba sobimatust tõestavatele väidetele jooned alla. 4 punkti

- jõgi
- sügavaveeline järv kuumal suvel
- sügavaveeline järv keskmisest külmemal talvel
- allikatoiteline madal järv keskmisest soojemal talvel
- madal tiik keskmisest külmemal talvel
- laugas
- kraav









6. Nimeta kolm Eesti päritolu maadeavastajat.

3 punkti

7. Võrdle Pärnu ja Loobu jõge

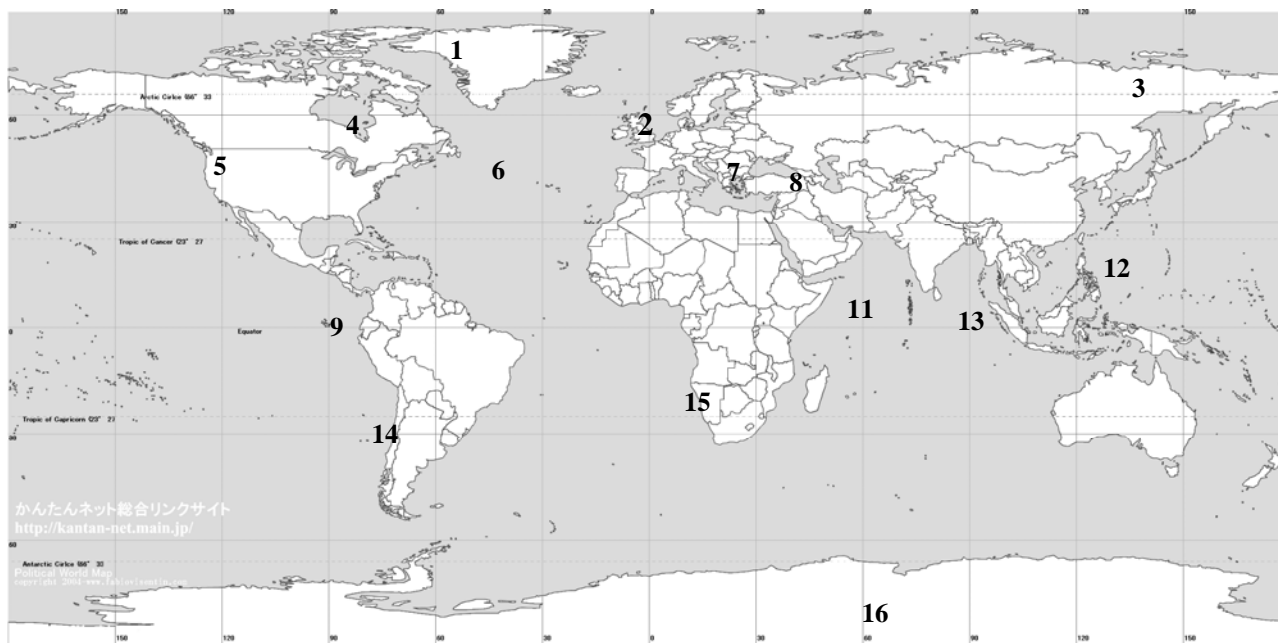
6 punkti

Näitaja	Pärnu jõgi	Loobu jõgi

8. Maailmaaja järgi toimus Ecuadori-Kolumbia piiril 17. juuli 2009.a. kl 9.18 maavärin, võimsusega 4.6 magnituudi. Miks kell toimus maavärin kohaliku aja järgi? 2 punkti

9. Kirjuta iga väite järele kaardilt võetud õige number. Numbreid kaardil on rohkem kui väiteid. 7 punkti

Põhjapoolkera külmapoolus.....; Maal kõige lähem koht Päikesele.....; pindalaliselt kõige suurem järv.....; kõige sügavam süvik.....; ainus riik, millel on peale Eesti veel olemas sinise musta ja valge kombinatsiooniga lipp.....; riik, millele kuulub kõige suurem saar.....; riik, mille valitsus pidas veealuse istungi, et juhtida tähelepanu kliimasoojenemisele.....



10. Mida tähendavad mõisted Madal-Eesti ja Kõrg-Eesti?

2 punkti

.....
.....

11. Kirjuta, milline fotol kujutatud koht on iseloomulik Lõuna-Eestile, saartele, Põhja-Eestile ja Ida-Eestile. Põhjenda oma arvamust.

6 punkti

Lõuna-Eesti Põhjendus:

Saared Põhjendus:

Põhja-Eesti Põhjendus:

Ida-Eesti Põhjendus:



12. Joonista kiirevoolulise jõe sängi läbilõige ja pealtvaade. Nimeta kaks kiirevoolulist jõge Eestis.

6 punkti

13. Põhjenda, miks on Eesti külmapoolus Jõgeval, mitte Sõrve poolsaarel.

2 punkti

.....
.....