

**Вопросы уездного тура олимпиады по географии для 9 класса**

1. Охарактеризуй территориальное распределение и плотность населения в уезде Рапла. Назови основные причины такого распределения населения. 3 балла

.....

.....

.....

.....

2. На рисунках изображён угол падения солнечных лучей в день осеннего равноденствия в четырёх городах. Подпиши рисунки подходящими городами из списка: 4 балла



.....

3. а) Насколько различается местное солнечное время в Нарве и Курессааре? 3 балла

б) По какому меридиану определяется поясное время в Эстонии? .....

с) Опережает ли местное солнечное время в Эстонии поясное время или отстаёт от него? .....

4. Распредели следующие понятия по природным зонам. Надпиши название природной зоны:

6 баллов

*саксаул, иглу, баобаб, каяк, саами, масаи, вечная мерзлота, термиты, северный олень, солончак, вельвичия, нунатак.*

Природная зона				
Понятия				

5. В одной из природных зон растут своеобразные ели с "юбками". В какой зоне они растут и почему они такие? 2 балла

.....

.....

6. Что это такое – альтиплано? 3 балла

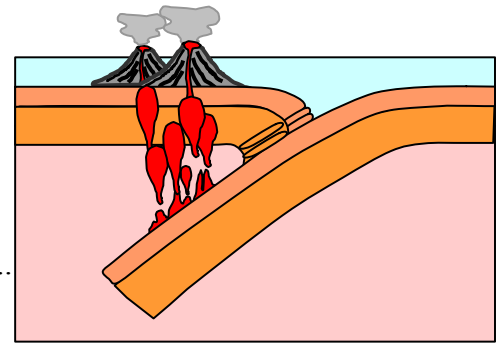
В каких государствах (4) оно распространяется? .....

.

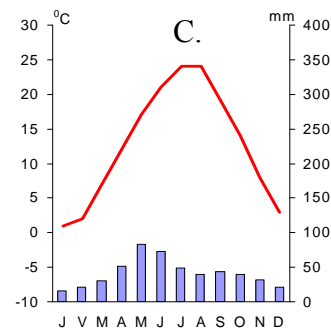
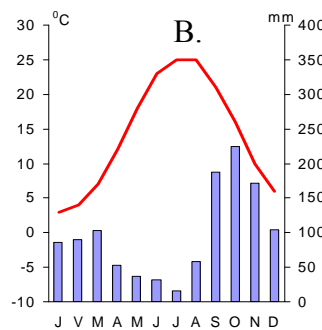
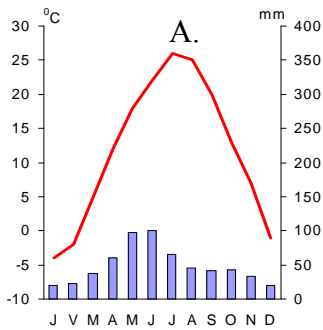
7. а) Объясни, что изображено на прилагаемом рисунке? ..... 4 балла

б) Приведи пример местности, где происходит такой процесс.

в) Какие геологические процессы вероятнее всего происходят в этом регионе?.....



8. Соедини климатические диаграммы с приведёнными в перечне(списке) местами. Поясни свой выбор. 6 баллов



Место ..... – Тбилиси, так как .....

Место..... – Ереван, так как .....

Место..... – Ленкорань (прибрежный город в 70 км к югу от устья Куры), так как .....

9. а) Что изображено на рисунке А? ..... 4 балла

б) В каких условиях возникает такое явление? .....

в) В каких природных зонах оно особенно часто встречается? .....

10. а) Почему лиственные леса больше распространены в прибрежных областях, чем на внутренней части суши? .....4 балла

б) Почему лиственные леса Северной Америки богаче видами, чем европейские леса? .....

11. Чем объяснить тот факт, что в различных горных системах бывает разная вертикальная зональность и разнообразные растительные сообщества.

4 балла

.....

.....

.....

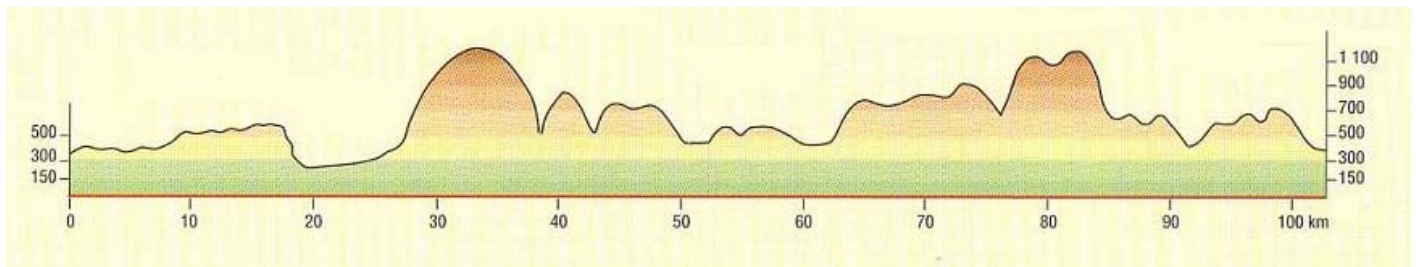
12. Исправь в следующем тексте ошибки

4 балла

Зона тундры имеет наибольшую площадь среди природных зон мира. Она распространяется в северной части материков северного полушария и в южной части материков южного полушария. Большое количество осадков приводит к переувлажнению почвы и заболачиванию больших площадей. Грунт глубоко замерзает и образуется вечная мерзлота. В тундре деревья не растут. В тундре живут белые медведи, лемминги, полярные лисицы и северные олени.

13. а) Посмотри из атласа, по какой линии нарисован этот профиль через Словакию?.....

2 балла

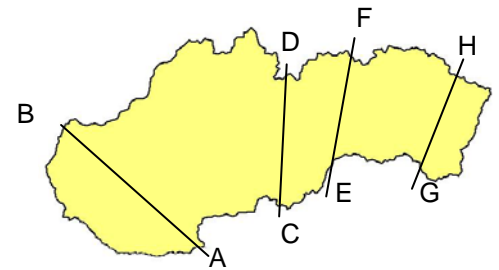


б) Как влияет горный рельеф Словакии на следующие отрасли хозяйства? 3 балла

Сельское хозяйство – .....

Туризм – .....

Энергетическое хозяйство – .....



14. Что означает утверждение: *Запас солнечной энергии находится в горных породах.*

2 балла

.....

.....

d) На фото В изображена граница между днём и ночью. В каком месяце (декабрь, март, июнь, сентябрь) снято это фото? .....

3 балла

Объясни .....

15. На фото С, D, E, и F изображены важные и известные каналы мира. Какие именно?

фото С .....

фото D ..... 4 балла

фото E .....

фото F .....

