

Вопросы уездного тура олимпиады по географии для 8 класса

1. Сравни между собой Анды и Гималайские горы.

6 баллов

Показатель	Анды	Гималайские горы

2. С помощью атласа проверь правильность следующих утверждений.

5 балла

A. В волости РУННА эстонцы составляют менее 50% населения. *верно/неверно*

B. На полуострове Кыпу можно любоваться Балтийским глинттом. *верно/неверно*

C. Количество осадков наибольшая в западных прибрежных регионах Эстонии. *верно/неверно*

D. 20 километров реки Койва являются государственной границей Эстонии. *верно/неверно*

E. Залежи известняка, которые используются в строительстве встречаются в трёх уездах на юге Эстонии. *верно/неверно*

3. а) Объясни, что изображено на прилагаемом рисунке?

6 баллов

.....
 б) Укажи на рисунке стрелочками направление перемещения тектонических плит.

в) Приведи один пример региона, где происходит этот процесс.

д) Какие геологические процессы по всей вероятности происходят в этом регионе?

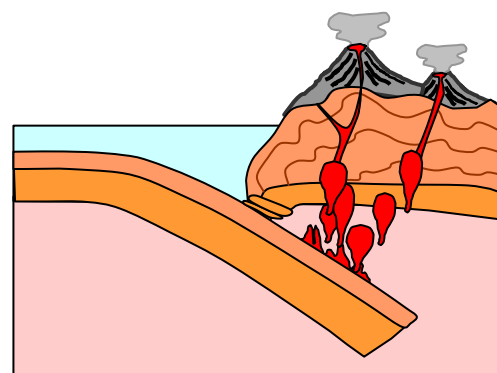
.....

4. Сколько времени требуется цунами для того, чтобы после землетрясения на побережье Чили (на 45° ю.ш.) дойти до Гавайских островов. Скорость цунами в открытом океане около 800 км/ч. 2 балла

5. Как коренные народы Америки получили название „индейцы“? 2 балла

.....
 Какая страна названа именем открывателя Америки? 1 балл

Почему открывателями Америки не считаются викинги побывавшие на северо-западе Северной Америки уже в IX веке? 1 балл



6. На рисунке профиль Тартуского марафона (для велосипедистов) 2006-ого года.

4 балла

- a) На каком участке (на рисунке буквами) преобладали подъёмы?
- б) На каком участке подъёмы и спады наименьшие?
- с) На каком участке подъёмы и спады наиболее крутые и длинные?
- d) На каком участке пути ехали велосипедисты с горы?

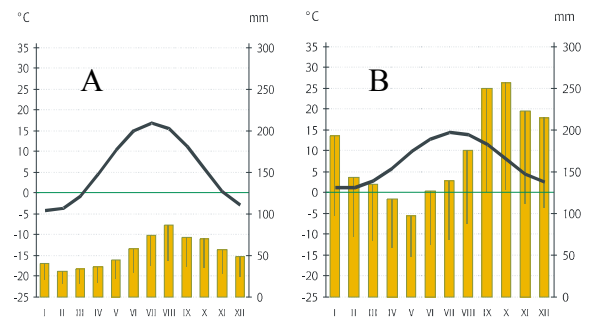


7. а) С помощью климатограмм опиши различия в климате мест А и В.

5 баллов

Температура и её годовое колебание

Осадки и их годовое распределение



б) Какая из климатограмм характеризует климат Бергена, какая Осло. Берген Осло

с) Чем объясняются такие различия в климате Осло и Бергена?

8. а) В каком климатическом поясе расположен Пекин?

3 балла

б) Почему у многих спортсменов были серьезные проблемы с местной погодой адаптацией к климату?

с) Что такой смог? Что вызывает смог в Пекине?

3 балла

9. Подчеркни в каких нижеперечисленных местах Солнце в зените в конце октября?

4 балла

Мапана (Macará), Кито (Quito), Сан-Паулу (São Paulo), Лима (Lima), Дакка (Dhaka), Куала-Лумпур (Kuala Lumpur), Лобита (Lobito)

Обоснуй свой выбор.

10. Парашютисты приземлились в точках с координатами 58°50'С, 23°27'В соответственно и направились далее в пункт находящийся в 26 км по азимуту 270°.

4 балла

Парашютисты приземлились в и направились далее в

11. О каких государствах идёт речь? Дополни описания стран приведёнными ниже фактами. 6 баллов

A. по ловли рыбы занимает одно из первых мест в мире; **B.** находится в основном на плато; **C.** одно из самых густонаселённых стран мира; **D.** в этой стране находится наивысшая точка континента, **E.** в числе официальных языков язык кечуа, **F** находится в совместной дельте двух больших рек; **G.** в этой стране истоки самой полноводной реки мира; **H** граничит с оном из больших озёр мира; **I.** муссонный климат экваториального пояса.

12. Подчеркни в каких из перечисленных ниже мест встречаются горячие источники и гейзеры. 4 б

Япония, центральная часть Австралии, западная часть США, Польша, Исландия, Швеция, полуостров Камчатка, Египет

Обоснуй свой выбор.

13. Как образуются такие формы рельефа? 5 баллов


.....

Нарусуй в пустой квадрат рисунок, как это место будет выглядеть через 500 лет.

Встречаются ли такие формы рельефа в Эстонии?

Обоснуй.

.....



14. Распредели горные системы по возрасту в две группы: 4 балла

Гималаи, Скандинавские горы, Урал, Апеннины, Карпаты, Альпы, Пиренеи, Анды

Старые горы	Молодые горы