

**Вопросы уездного тура олимпиады по географии для 8 класса**

1. Команда Эстонии отправится летом на олимпийские игры в Пекин. Самолет вылетает из Таллинна в 17.45 и прибывает в Хельсинки в 18.20. Из Хельсинки спортсмены вылетят в 20.00, и будут лететь в Пекин 7 часов и 30 минут. 5 баллов

- a) Во сколько по местному времени самолет прибудет в Пекин? .....
- b) Насколько придется передвинуть в Пекине стрелки часов? Вперед или назад? .....
- c) Каково будет время в Таллинне в момент прилета команды в Пекин? .....

2. В аэропорту эстонские спортсмены встретились с финнами (A), итальянцами (B), норвежцами (C), литовцами (D), турками (E) и чехами (F), которые приветствовали прибывших каждый на своем языке. Напиши рядом с каждым приветствием букву соответствующей национальности. 3 балла

Dobrý den! ..... Päivää! ..... Labas! .....  
 God dag! ..... Merhaba! ..... Buongiorno! .....

12. Три друга составляли план совместного путешествия, однако оказалось, что у них разные интересы. Максим хотел непременно поехать в горы, Роман мечтал поваляться на пляже у теплого моря, и о серфинге, а Алексей хотел познакомиться с античной архитектурой. В качестве компромисса друзья решили, что дневное время каждый будет проводить согласно своим интересам, а вечера они будут проводить вместе.

Назови государство в Европе, помимо Италии, где такое возможно. Эта страна должна находиться в пределах 1800 км от Эстонии. Обоснуй свой ответ. 3 балла

.....  
 .....

4. На этих четырех картах показан один и тот же участок побережья Балтийского моря. 4 балла  
 Какой процесс виден на картах?

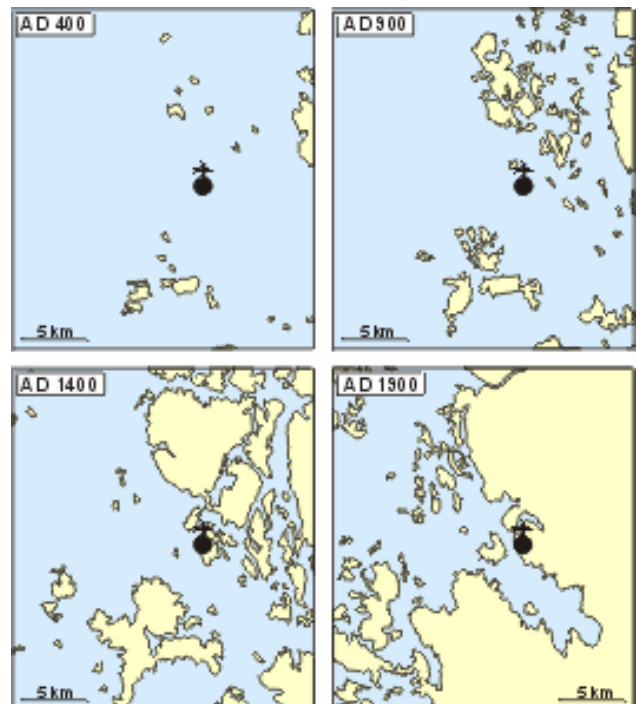
Чем вызван этот процесс?

Где может находиться этот участок?

- A. На северном побережье Эстонии.
- B. На западном побережье Финляндии.
- C. На побережье Литвы.
- D. На юго-западном побережье Швеции.

Обоснуй ответ. ....

.....



5. Реши, с помощью атласа, правильны ли следующие утверждения. Исправь неправильное утверждение на правильное не используя отрицания. 5 баллов

- A. Во время своего путешествия 1271-1295 годов, Марко Поло посетил и территорию современного Брунея.. Да/Нет
- B. В самой влажной части Индии выращивают сахарный тростник. Да/Нет
- C. Протяженность острова Сингапур с запада на восток примерно 40 км. Да/Нет
- D. В Иордании проживает 90% мусульман-суннитов, 5% христиан и 5% мусульман-шиитов. Да/Нет
- E. Скандинавские горы и Урал образовались в один и тот же период складчатости. Да/Нет

6. a) Чье гнездо показано на картинке? .....4 балла

b) В какой климатической зоне они живут? .....


c) На каких материках они встречаются? .....

d) Какие проблемы они создают для людей? .....

7. a) Что такое вечная мерзлота? .....4 балла

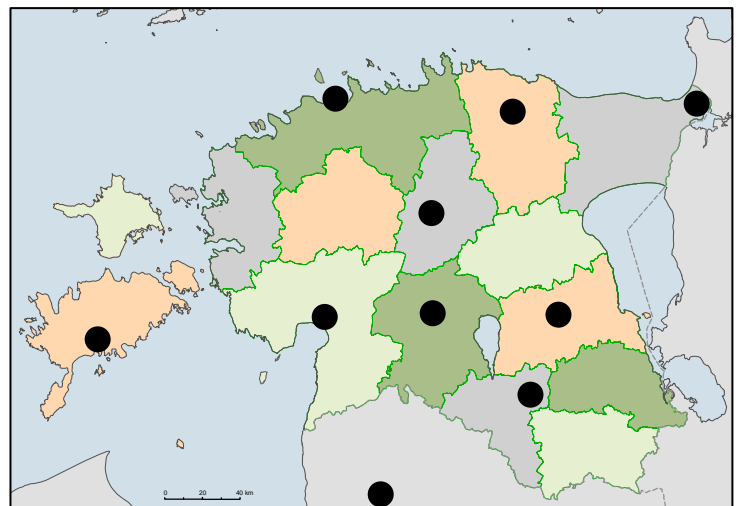
b) Для каких природных зон характерна вечная мерзлота? .....

c) Какое влияние оказывает вечная мерзлота на деятельность людей? .....

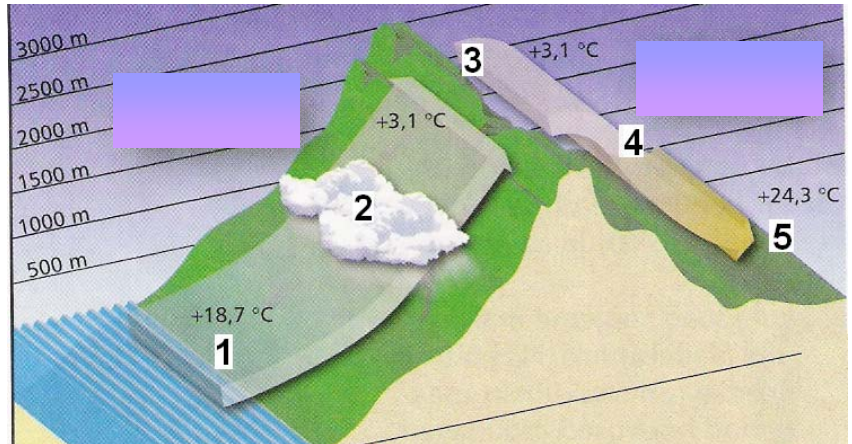


8. Где произошли перечисленные ниже важные события в истории Эстонии? Напиши на карте в соответствующее место порядковый номер события. Точек на карте больше, чем событий. 6 баллов

1. Битва у Юмера (Ümera)
2. Место, где эстонско-русские войска одержали победу над крестоносцами.
3. Битва Мадисова дня.
4. Место убийства старейшин во время восстания Юрьевой ночи.
5. Место первичного оглашения манифеста о независимости Эстонии (23 февраля 1918).
6. Место подписания мирного договора, завершившего Освободительную войну (2 февраля 1920).



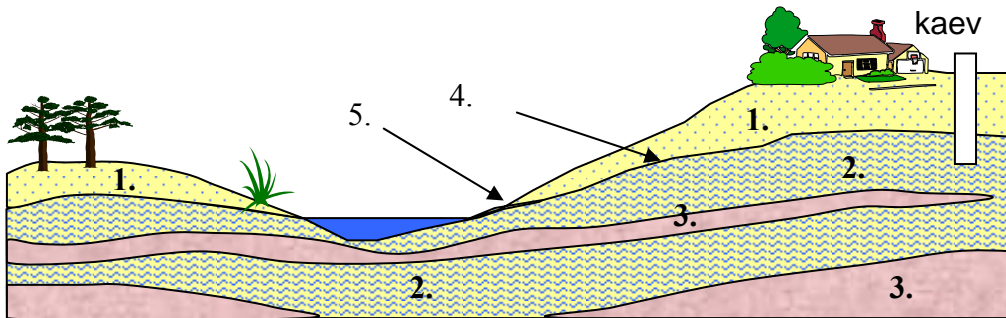
9. Посмотри на рисунок. а) Объясни, что происходит с воздухом, который движется с моря на сушу. Обоснуй ответы. 5 баллов



б) Дай рисунку подходящее название. ....

10. а) Укажи на рисунке, в местах отмеченных цифрами, соответствующие термины, связанные с подземными водами. б) Покажи стрелками направление грунтовых вод. с) Отметь уровень воды в колодце.

д) В каких районах Эстонии есть серьезные проблемы с чистой питьевой водой? Почему? 6 баллов



11. а) Почему в зоне тропических дождевых лесов дома строят на сваях? 5 баллов

б) В каких еще регионах (природных зонах) строят дома на сваях и почему?

12. a) Представители каких народов показаны на фотографиях? Выбери ответ из списка. б) Укажи, в каких природных зонах они живут?

*масай, эскимосы, саамы, кечуа Перу, мексиканцы, маори, тибетцы.*

6 баллов

A. .... B. ....

C. .... D. ....

с) Отметь на карте соответствующей буквой район проживания этих народов.




A



B



C



D

