

Geograafiaolümpiaadi maakonnavoru küsimused 8. klassile

1. Eesti võistkond sõidab suvel Pekingisse olümpiamängudele. Lennuk väljub Tallinnast Helsingisse kell 17.45 ja kohale jõuab 18.20. Helsingist jätkatakse sõitu kell 20.00 ja lennureis kestab 7 tundi ja 30 minutit.

- a) Mis kell kohaliku aja järgi jõutakse Pekingisse? 5 punkti
- b) Kui palju tuleb Pekingisse jõudes kella ette või taha keerata?
- c) Mis on kell Tallinnas, kui võistkond Pekingisse jõuab?

2. Lennujaamas said eestlased kokku soomlaste (A), itaallaste (B), norralaste (C), leedulaste (D), türklaste (E) ja tšehhidega (F) ning tervitasid igaüks oma keeles. Kirjuta iga tervituse taha õige tervitaja täht. 3 punkti

Dobry den! Päivää! Labas!

God dag! Merhaba! Buongiorno!

3. Kolm sõpra tegid üheskoos puhkuseplaane, kuid igaühel olid erinevad reisihiivid. Mart tahtis selle reisi jooksul kindlasti mägedes matkata, Rein oli huvitatud sooja mere ääres päevitamisest ja surfamisest st rannamõnudest ning Alo plaanis tutvuda antiikarhitektuuriga.

Kompromissina otsustasid nad, et päeval tegeleb igaüks oma huvidega, kuid õhtud veedetakse koos. Nimeta veel üks Euroopa riik lisaks Itaaliale, kus see on võimalik. See riik peab asuma Eestist kuni 1800 km kaugusel. Põhjenda. 3 punkti

.....

.....

4. Need neli kaarti on tehtud ühest Läänemere-äärsest piirkonnast. 4 punkti

Mis protsessi on kaardil kujutatud?

.....

Mis sellise protsessi on esile kutsunud?

.....

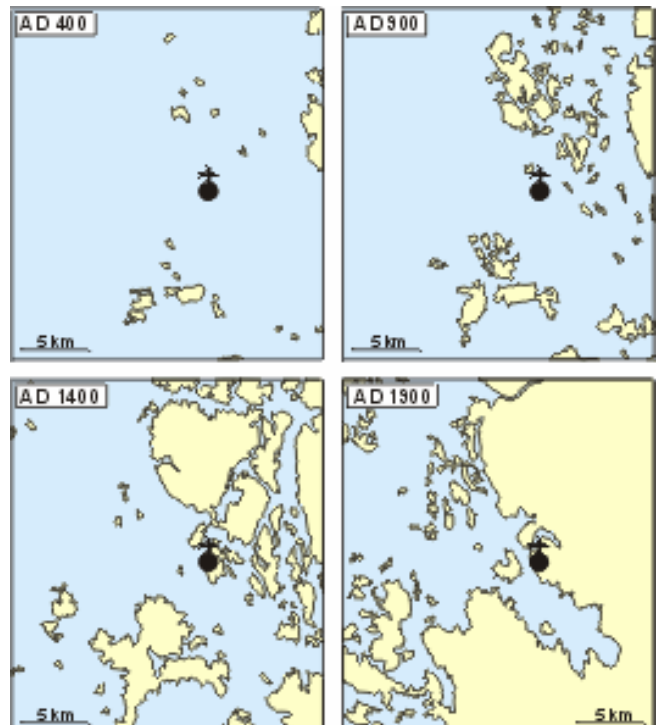
Kas see piirkond võiks asuda:

- A. Eesti põhjarannikul
- B. Soome läänerannikul
- C. Leedu rannikul
- D. Rootsi edelarannikul

Põhjenda.

.....

.....



5. Otsusta atlase abil, kas järgmised väited on tõesed või väärad. Paranda väärad väited õigeks ilma eitust kasutamata. 5 punkti

- A. Marco Polo külastas oma 1271-1295 aasta avastusretke ajal ka praeguse Brunei territooriumi. Tõene/Väär
- B. India kõige sademeterohkemas piirkonnas kasvatatakse suhkruroogu. Tõene/Väär
- C. Singapuri maismaaosa ulatus idast läände on ligi 40 km. Tõene/Väär
- D. Jordaania elab 90% sunniidi moslemeid, 5% kristlasi ja 5% šiidi moslemeid. Tõene/Väär
- E. Skandinaavia ja Uurali mäestik on tekkinud samal kurrutsperioodil. Tõene/Väär

6. a) Kelle pesa on pildil kujutatud? 4 punkti

b) Mis kliimavöötmes nad elavad?

.....

c) Mis mandritel neid esineb?

d) Mis probleeme tekitavad inimestele?

.....

7. a) Mis on igikelts e kirsmaa? 4 punkti

.....

b) Mis loodusvöönditele on igikelts iseloomulik?

.....

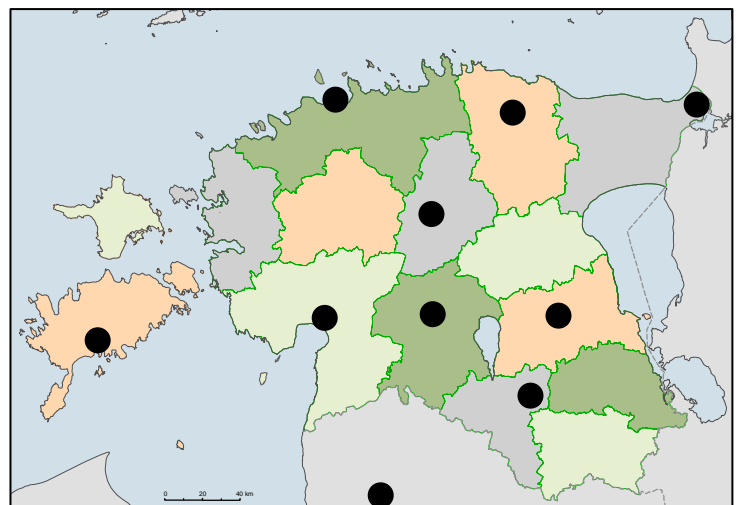

c) Millist mõju avaldab igikelts inimtegevusele?

.....

.....

8. Kus on toimunud järgmised olulised sündmused Eesti ajaloos? Märki sündmuse ees olev number kaardile õigesse kohta. Tähistusi kaardil on rohkem kui sündmusi. 6 punkti

1. Ümera lahing
2. Koht, kus eestlased saavutasid koos venelastega võidu ristisõdijate üle.
3. Madisepäeva lahing.
4. Kuningate tapmiskoht Jüriöö ülestõusu käigus.
5. Esimese Eesti iseseisvusmanifesti esmaetelugemise koht 23. veebruaril 1918.
6. Eesti Vabadussõja rahulepingu allakirjutamise koht 2. veebruar 1920.



12. a) Mis rahvaid on pildidel kujutatud? Tee valik loetelust. b) Lisa, mis loodusvööndites nad elavad?

Masaid, eskimod, saamid, ketšuaad Peruuus, mehhiklased, maoorid, tiibetlased.

6 punkti

A. B.

C. D.

c) Märki sama tähega kaardile nende rahvaste asuala.




A



B



C



D

