

nimi klass kool

Lõppvooru küsimused 8. klassile

1. Otsusta toodud väidete abil, mis saart on joonisel kujutatud?

Saare kohta toodud väidetest on vaid osa tõesed. Märki tärniga need, mis seda saart iseloomustavad?

4 punkti

- Saar on jagatud 2 riigi vahel.*
- Saar asub Põhja-Jäämeres.*
- Saar on mägine.*
- Saarel esineb maavärinaid.*
- Rahvastiku tihedus on 10-50 in./km².*
- Seal leidub maagaasi.*
- Saarel ei kasva metsa.*
- Saarel ei ole piisiasustust.*
- Saar asub ekvatoriaalses kliimavöötmes.*
- Saarel asub maailma lõunapoolseim linn.*
- Aasta keskmine temperatuur on 0°C ...10 °C.*
- Saar jääb kahte ajavööndisse.*

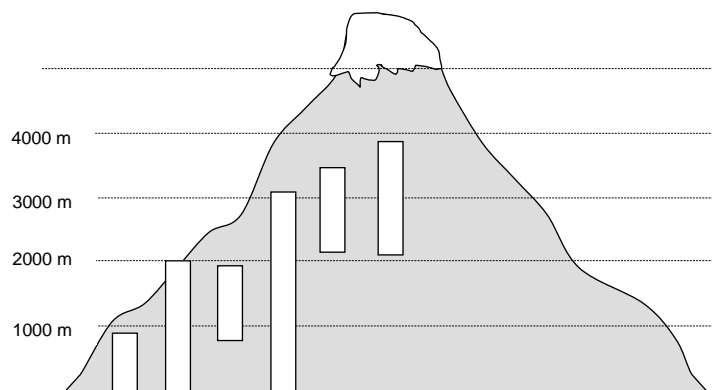


2. Määra võimalikult täpselt, millisel laiusel on täna päike keskpäeval seniidis?

3 punkti

3. Reasta loetelus olevad taimed vastavalt sellele, kui kõrgel neid kasvatatakse ekvaatori lähistel Andide mäestik. Märki taime ees olev number joonisele õigesse kohta. 3punkti

- 1. mais, 2. kartul, 3. kohvi,
- 4. suhkruroog, 5. kakao, 6. nisu



Kuidas muutub lumepiiri kõrgus Andides, kui liikuda ekvaatorist lõuna piile. Põhjenda.

2 punkti

4. Miks ei ole Amazonase jõe suudmesse kujunenud ulatuslikku deltat?

2 punkti

5. Kui Portugali läänerannikul on mõõn, siis millistes järgnevalt loetletud kohtades on samuti mõõn ja kus tõus?

3 punkti

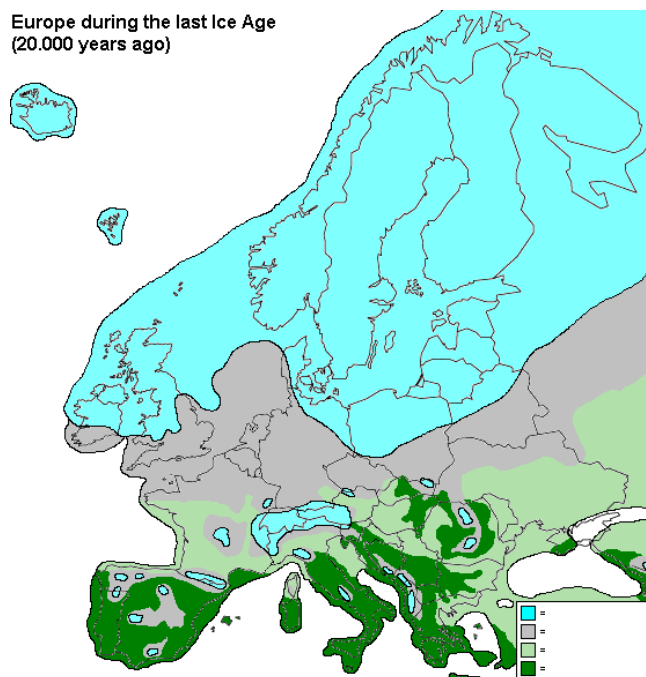
Sri Lanka rannikul on

Uus-Meremaa rannikul on

Mehhiko rannikul on

6. Sellel kaardil on kujutatud Euroopat umbes 20 tuhat aastat tagasi. Lisaks mandrijääle, on siin veel kolm loodusvööndit. Kirjuta need kaardile. 3 punkti

Europe during the last Ice Age (20.000 years ago)



7. Mis kõrbetega on tegemist? Vii loetelust toodud nimi kokku õige pildiga. Selgita lühidalt, mille põhjal otsustasid. 6 punkti


Gobi kõrb, Namibi kõrb, Mojave kõrb, Victoria kõrb

A.

B.

C.

D.



8. Selgita, mis nähtusi on fotodel 1 ja 2 kujutatud. Mis loodusvööndites need esinevad? 4 punkti

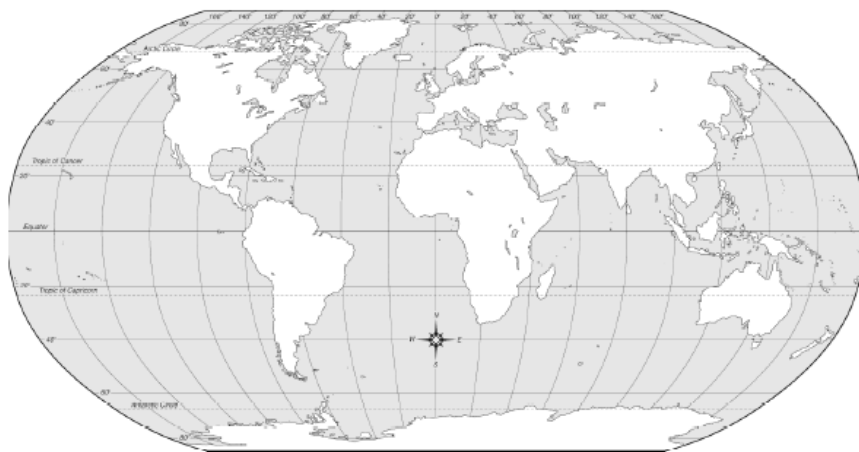


.....

.....

9. Tähista kaardil kaks piirkonda, kust jõgede vesi maailmamerre ei voola (nn siseärvoolualad) ja kaks piirkonda, kust voolab pinnauhikult kõige rohkem vett maailmamerre.

4 punkti



10. Mis riikides asuvad praegu järgmised alad?

4 punkti

Mesopotaamia

Patagoonia

Uus-Hispaania

Uus-Prantsusmaa.....

11. Võrdle rahvastiku paiknemist Argentinas ja Colombias. Too välja sarnasused ja erinevused ning lisa taolise paiknemise põhjused.

4 punkti

Erinevused rahvastiku paiknemises ja põhjused:

.....

Sarnasused rahvastiku paiknemises ja põhjused:

.....

12. Kuidas muutuvad kliimatingimused ja taimkate Põhja-Ameerikas ida-lääne suunaliselt piki 40° põhjalaiust joonisel numbritega märgitud kohtades?

6 punkti



Punkt	Loodusvöönd	Miks esineb seal selline taimkate?
1.		
2.		
3.		
4.		
5.		

b) Milline tegur mõjutab antud juhul kõige enam muutusi taimkattes?

.....

13. Millised väited selle riigi kohta vastavad tõe. Paranda valed väited õigeks.

5 punkti

- | | |
|------------|--|
| Tõene/väär | Kosovo piirneb Albaania, Serbia ja Makedooniaga. |
| Tõene/väär | Kosovo riigikeeled on serbia ja albaania keel |
| Tõene/väär | Valitsev usund on katoliiklus |
| Tõene/väär | Kosovo on pindalalt Eestiga ühesuurune, kuid elanikke on rohkem. |

Miks on Kosovo tunnustamise vastu Hispaania ja Gruusia?

.....

14. Leia Aafrika kaardilt Bamako, Abuja ja Abéché. Neis kolmes kohas on taimekasvuperiood väga erineva pikkusega. Vii kohad vastavusse taimekasvu perioodi pikkusega ning selgita, miks on see nii erinev.

3 punkti

- 60-90 päeva
- 90-140 päeva
- 140-190 päeva

Taimekasvuperiood on neis kohtades nii erinev sellepärast, et

.....

15. Nimeta kolm põhjust, miks Soomaal esinevad suured üleujutused.

3 punkti

.....

