

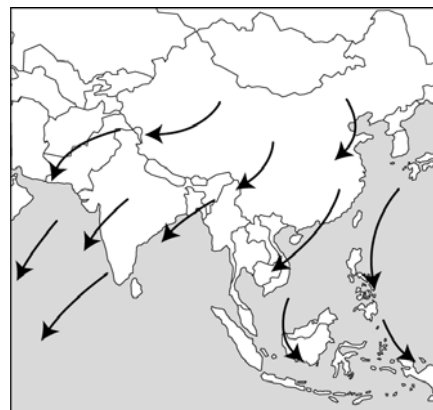
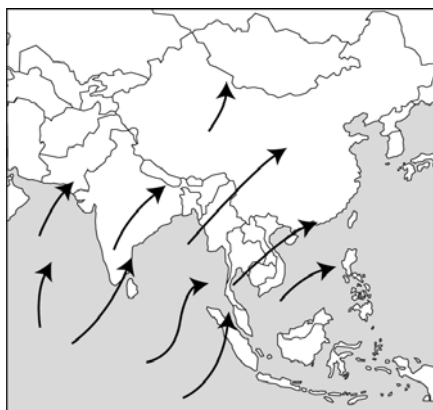
nimi kool õpetaja

Lõppvooru küsimused 7. klassile

1. Järgnevalt on toodud neli riiki, mille nime on 20. sajandil muudetud. Kuidas nimetatakse neid riike praegu? 4 punkti

Tseilon Ülem-Volta
 Siiam Pärsia

2. Kaartidel tähistavad nooled valitsevat tuule suunda suvel ja talvel. Kirjuta kaartidele, millist aastaega see iseloomustab. 2 punkt



Kuidas nimetatakse seda tuulesüsteemi?

Iseloomusta vastavalt aastaajale ilmastikku selles piirkonnas. 2 punkti

Suvel

Talvel

Selgita pikemalt, miks tuule suund aasta vältel muutub. 2 punkti

.....

3. Vaata fotosid lisalehel. Selgita, millistes tingimustes ja kuidas on tekkinud pildidel 1 ja 2 kujutatud pinnavormid. Kuidas neid pinnavorme nimetatakse? 6 punkti

Pilt 1 pinnavorm on tekkinud

Pilt 2 pinnavorm on tekkinud

4. Nii Island kui Hawaii saared asuvad keset ookeani, kaugel eemal mandritest. Võrdle nende saarte teket. Võrdlemisel toetu laamtektoonikale. 4 punkti

.....

Millised geoloogilised protsessid on neil saartel sarnased, millised erinevad?

4 punkti

sarnased geoloogilised protsessid:

.....

erinevad geoloogilised protsessid:

.....

5. Milliseid tuntud kohti on neil pildidel kujutatud? Nimeta riigid, kus need kohad asuvad. *6 punkti*

pilt 3 koht riik

pilt 4 koht riik

pilt 5 koht riik

pilt 6 koht riik

6. Vaata fotosid lisalehel. Pildidel 7 ja 8 on kujutatud Mont Everesti. Kumb pilt on tehtud suvel, kumb talvel? Põhjenda vastust.

2 punkti

.....

Kuidas nimetavad tiibetlased Mont Everesti? *3 punkti*

Kuidas nimetavad nepaallased seda mäge?

Mida tähendab Himaalaja tiibeti keeles?

Kuidas on eesti keeles õige nimetada Mont Everesti

Milliste raskuste ja ohtudega tuleb arvestada kõrgmäestiku tippude vallutamisel? *3 punkti*

.....

7. Järgnevalt on esitatud läbisegi 12 fakti kolme riigi kohta. Mis riikidega on tegemist? Paiguta iga riigi juurde seda riiki iseloomustavaid fakte tähistavad tähed.

6 punkti

- A. Mägine riik, mille pindala on 46 500km².
- B. Riigil on kaks suurt naaberriiki.
- C. Riigi ekspordis on tähtsal kohal kautšuk, puit, raud, teemandid, kakao ja kohv.
- D. Üks osa riigi territooriumist jääb ekvatoriaalsesse kliimavöötmesse.
- E. Enamus selle riigi elanikest on budistid.
- F. Riigi ulatus põhjast lõunasse on ligi 3600 km.
- G. Riigi lääneosas kõrgub vulkaaniliselt aktiivne mäestik.
- H. Riigi lääneosa läbib meridiaan 10°W.
- I. Riigi territooriumile jäävad ulatuslikud, viljakate muldadega rohtlad.
- J. Selle riigi kohta öeldakse, et see on põllumajanduslik maa, kus ei ole talupoegi.
- K. Valuutat teenib riik postmarkide müügist ja turismist.
- L. Selle riigi lipu all sõidavad paljude maade laevad.

Riik	Seda riiki iseloomustavad faktid

8. Nimeta kolm põhjust, miks Soomaal esinevad suured üleujutused.

3 punkti

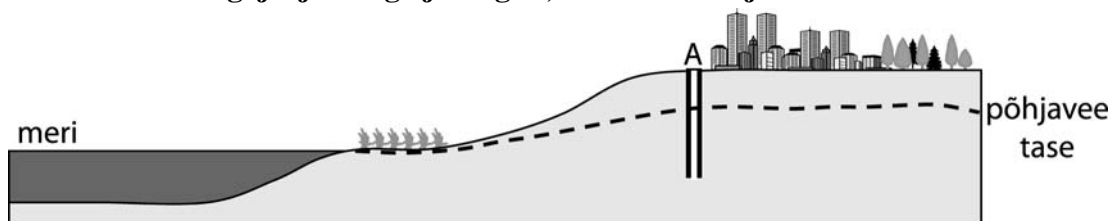
.....

.....

.....

9. Millised tagajärjed võivad ilmned, kui kaevust A linna tarbeks intensiivselt vett välja pumbata? Tähista võimalikud tagajärjed X-ga ja selgita, miks võib nii juhtuda.

3 punkti



- Kaevu A ümbrus võib soostuda.
- Põhjavee tase võib tõusta.
- Kivimid kaevu ümbruses võivad karstuda, kui neist vesi välja pumbatakse.
- Põhjavesi võib muutuda soolakaks.
- Põhjavee liikumise suund võib muutuda.
- Võib esineda maapinna vajumisi.

.....

.....

10. Kui Portugali idarannikul on mõõn, siis millistes järgnevalt loetletud kohtades on samuti mõõn ja kus tõus?

3 punkti

Sri Lanka rannikul on

Uus-Meremaa rannikul on

Mehhiko rannikul on

11. Millised väited maailma noorima riigi Kosovo kohta vastavad tõe. Paranda valed väited õigeks.

6 punkti

- | | |
|------------|--|
| Tõene/väär | Kosovo riigikeeled on serbia ja albaania keel |
| Tõene/väär | Valitsev usund on katoliiklus |
| Tõene/väär | Kosovos elab rohkem inimesi kui Eestis. |
| Tõene/väär | Kosovo piirneb Serbia, Albaania ja Makedooniaga. |
| Tõene/väär | Üle 90% elanikest on serblased. |

Miks on Kosovo tunnustamise vastu Hispaania ja Gruusia?

.....

.....

FOTOD

