

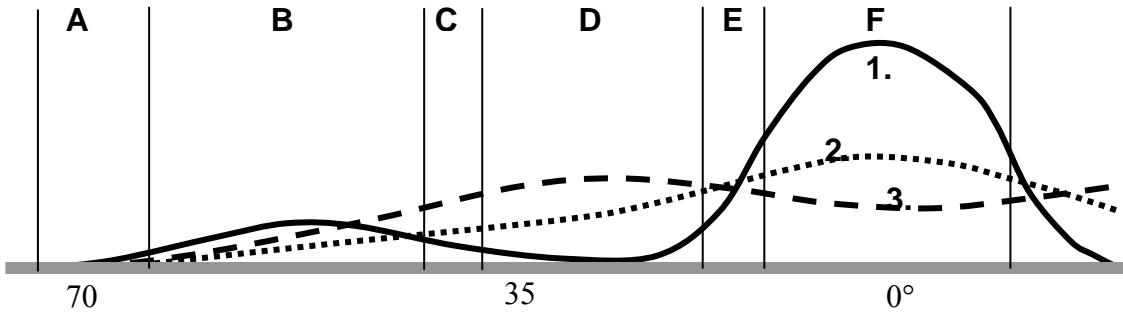
Вопросы уездного тура олимпиады по географии для 9 класса

1. Какие географические объекты в мире названы именами путешественников родом из Эстонии?

3 балла

2. На рисунке показаны изменения температуры, количества осадков и испарения в различных природных зонах (обозначены буквами).

6 баллов



а) Какой цифрой на рисунке обозначены

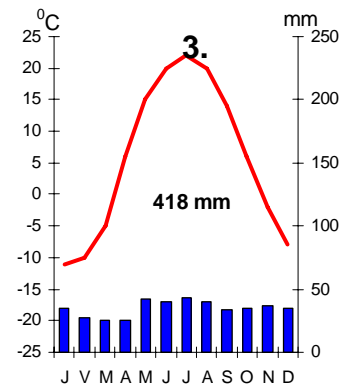
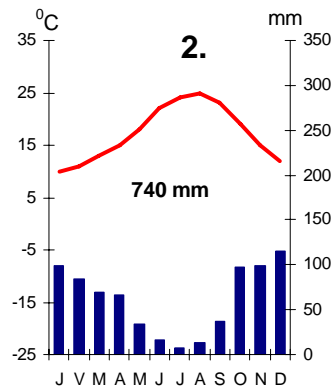
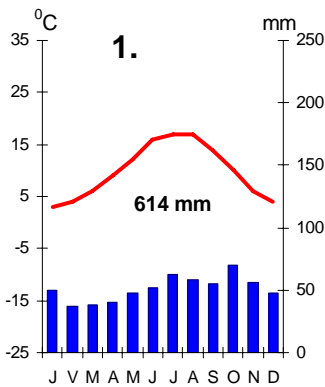
температура, осадки, испарение ..?

б) Какие природные зоны обозначены на рисунке буквами

A. C. E.

с) Для каких климатических поясов характерны эти диаграммы? Обоснуй ответы.

3 балла



1.

2.

3.

3. В каком из перечисленных мест день 22 декабря самый короткий? Обоснуй ответ.

3 балла

Окленд, Сува, Торонто, Париж

4. Почему скульптуры из старой деревянной церкви на Рухну находятся в Латвийском историческом музее, а, например, не в Эстонском национальном музее?

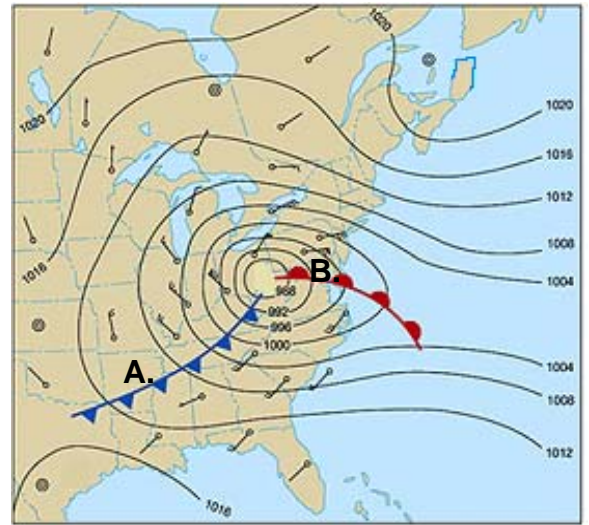
3 балла

5. Горные породы какого периода обнажаются в Северной Латвии?

2 балла

6. Отметь на карте

- области высокого и низкого давления; 5 баллов
- теплый и холодный фронт.
- Охарактеризуй погоду в местностях А и В в зимой



	Погода в местности А	Погода в местности В
Изменение температуры		
Облачность, осадки		
Направление ветра		
Изменение атмосферного давления		

7. а) Назови причины катастрофического наводнения в Нью-Орлеане в 2005 году.

5 баллов

б) На какой форме рельефа построен Нью-Орлеан?

в) В каких городах-миллионерах Европы может произойти такое же бедствие?

8. Эстонские рыбаки добывают рыбу в Атлантическом океане, в Балтийском море (у побережья и в открытом море), во внутренних водоемах и в рыбопитомниках. 6 баллов

а) Распредели приведенные ниже объемы вылова по соответствующим ячейкам таблицы.

428; 16 538; 7 857; 2 400; 71 903;

б) За последние годы вылов рыбы заметно уменьшился, только в одном секторе он вырос. В каком?

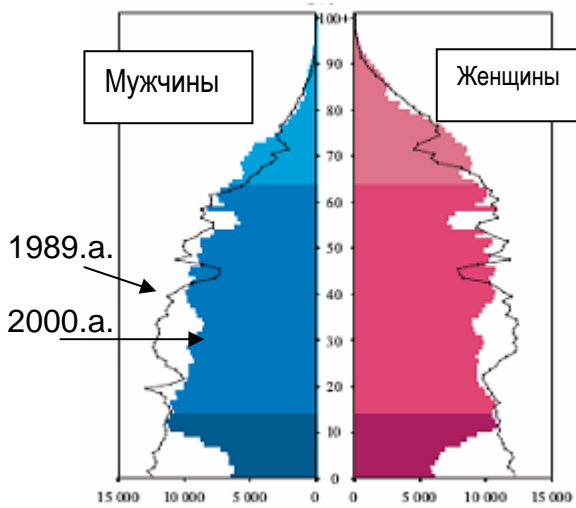
в) Для предотвращения перевылова и обеспечения восстановления рыбных запасов, вылов рыбы в Мировом океане регулируется. Каким образом?

Место лова	Улов в 2005 г. в тоннах
Атлантический океан	
Балтийское море: у побережья	
в открытом море	
Внутренние водоемы	
Рыбопитомники	

9. а) Какова главная проблема, связанная со строительством новой атомной электростанции в Литве?

3 балла

б) Какие два государства особенно заинтересованы в ее строительстве? Почему?



10. Укажи, на основе рисунка, изменения, которые произошли в поло-возрастном составе населения Эстонии и их причины. *3 балла*

1.
2.
3.

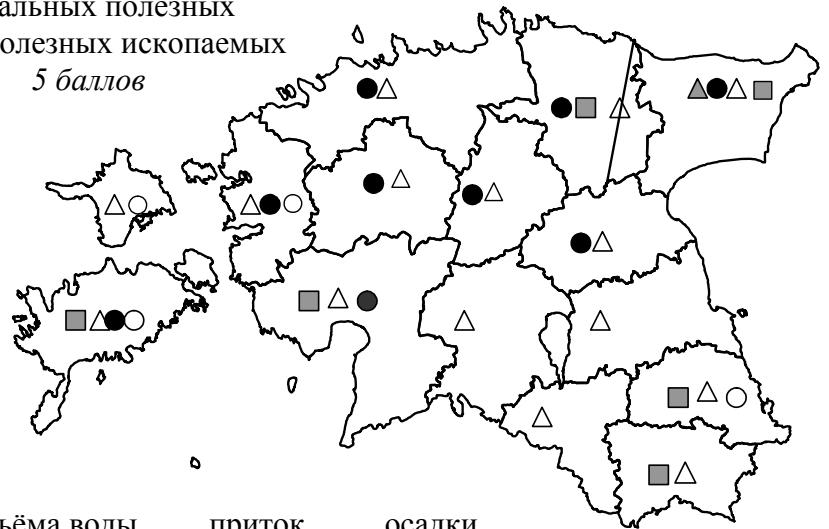
11. Озеро Поркуни высохло осенью 2006 года, и заполнилось вновь водой только в январе 2007 года, тогда как в реках падение уровня воды началось летом, а подъем осенью. Почему эти процессы происходили в озере Поркуни с таким запозданием? *2 балла*

.....

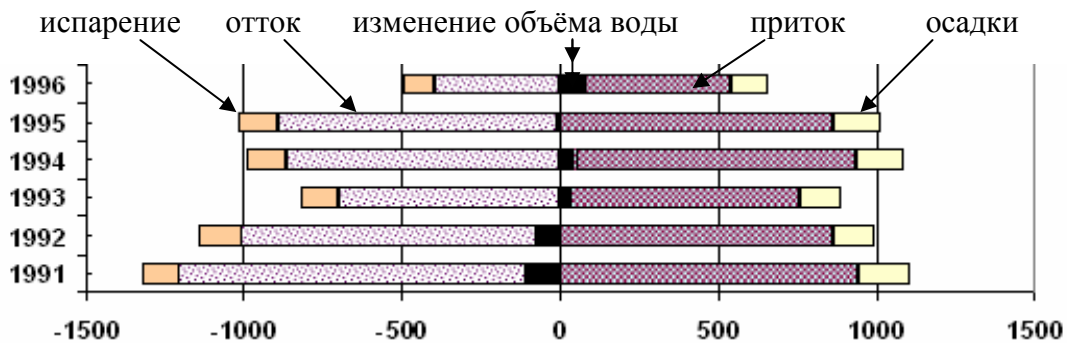
.....

12. На карте показана добыча основных минеральных полезных ископаемых в уездах. Напиши названия этих полезных ископаемых возле соответствующего им условного знака. *5 баллов*

-
-
- ▲
- △
-



13. Сравни, с помощью рисунка, водный баланс озера Выртсарв в 1996. и 1991. г. *4 балла*




1991.	1996

14. Отдели фотографии Латвии от фотографий Литвы.

4 балла

Фотографии Латвии.....

Фотографии Литвы



4.

6.



3.



5.

8.



7.