

Geograafiaolümpiaadi maakonnavoru küsimused 7. klassile

**1. Millise mäetipu vallutasid eestlased esmakordselt 13. jaanuaril 2007?**

3 punkti

..... **Määra selle tipu koordinaadid.** .....

**2. Jaota toodud mõisted sobivatesse paaridesse ja kirjuta igale paarile selgitav pealkiri.**

*rannavall, laviin, horisontaal, briis, isoterm, mussoon, maasäär, rusuvool*

4 punkti

.....

.....

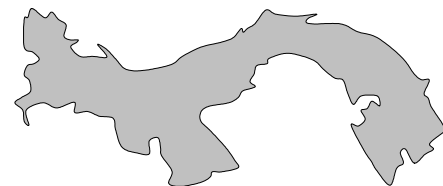
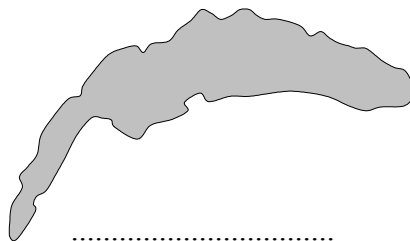
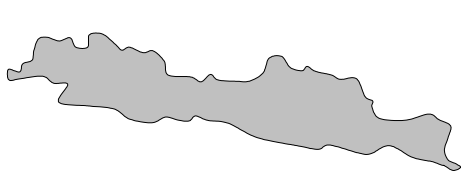
.....

.....

**3. a) Leia igale kontuurile toodud faktide abil õiged nimed. Märki nimed ja faktid (numbritega) õige kontuuri juurde. (Kontuurid on erinevas mõõtkavas).**

6 punkti

1. jääb parasvöötmesse,      2. aktiivne vulkaaniline tegevus,      3. asub kahte suure veekogu vahel,  
 4. kasvatatakse heveapuud,      5. räägitakse valdavalt hispaania keelt,  
 6. Alpi mäestik,      7. samanimelise mere ääres,      8. ajavahe Eestiga 7 tundi,  
 9. Rhône'i jõgi,      10. Balboa sadam,      11. kahe riigi piiriks,      12. räägitakse jaava keelt



.....

.....

.....

.....

.....

.....

**b) Milline neist objektidest on kõige suurema, milline kõige väiksema pindalaga?** 2 punkti

Suurim ..... väikseim .....

**4. Kui Ronne šelfiliustikust murduks lahti suur jäälahmakas, siis mis suunas hakkaks tekkinud jäämägi tõenäoliselt liikuma. Põhjenda.**

3 punkti

.....

.....

**5. Reasta sündmused nende toimumise järjekorras, alusta kõige varasemast.**

5 punkti

*F. G. Bellingshausen sõitis ümber Antarktise* .....

*Marco Polo Aasia reisirid* .....

*E. Hillary ja T. Norgay tõusid Džomolungma tippu* .....

*Eurooplased alustavad Aafrika koloniseerimist* .....

*Viikingite avastusretked Gröönimaale* .....

**6. Kus loetelus toodud kohtadest on päike aasta jooksul kaks korda seniidis?**

2 punkti

*Kairo, Sõo Paulo, Singapur, Dhaka, Nairobi, Santiago*

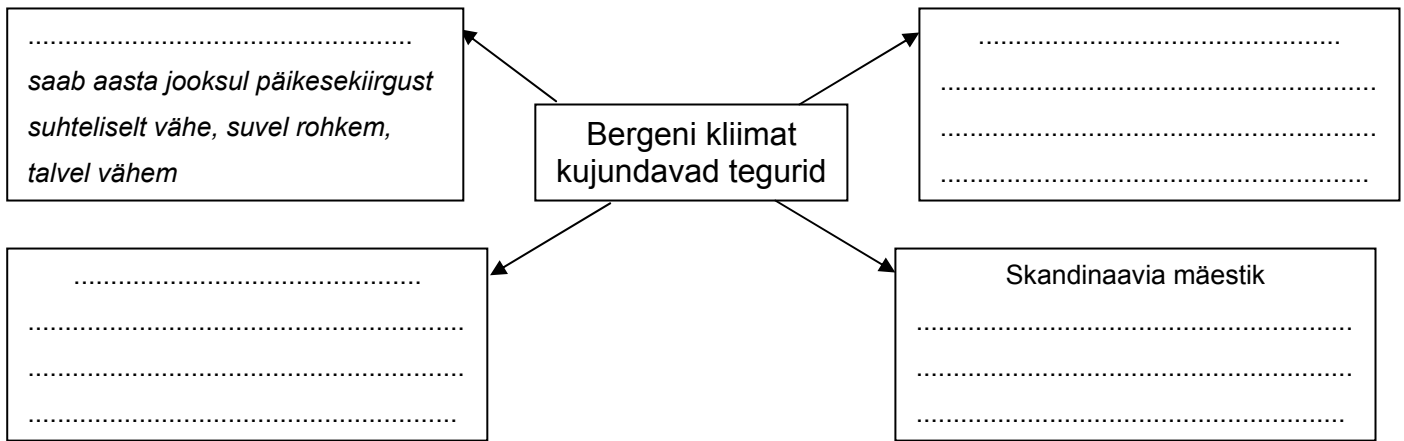
**7. Mille alusel on allpool nimetatud linnad reastatud?**

2 punkti

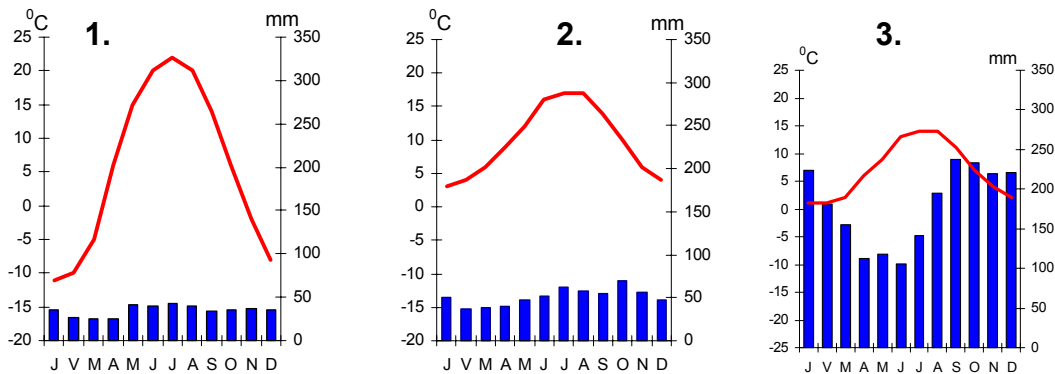
*London, Praha, Kiiev, Orenburg, Barnaul* .....

8. a) Lõpeta mõistekaart Bergeni kliimat kujundavate tegurite kohta.

6 punkti



b) Milline toodud kliimadiagrammidest iseloomustab Bergeni kliimat? Põhjenda. 3 punkti



Kliimadiagramm ....., sest .....

9. Milliseid riigis leiduvaid taastuvaid ja taastumatuid energiaressursse saab kasutada Austraalia oma energiavajaduste rahuldamiseks?

5 punkti

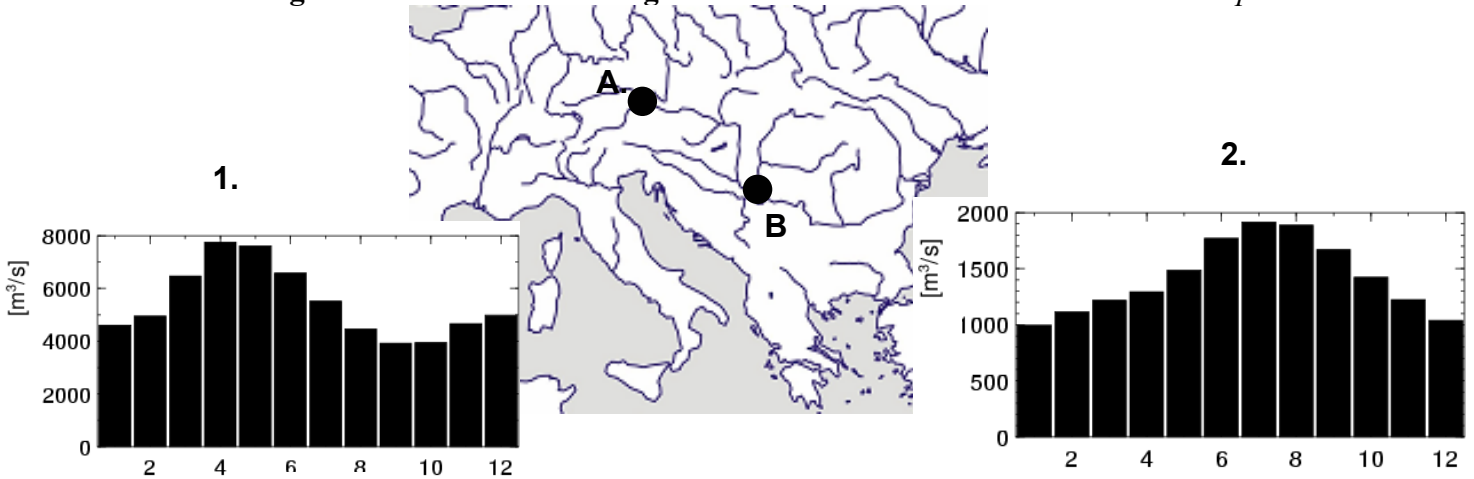
Taastuvad energiaressursid	Taastumatud energiaressursid

10. Millised loodusnähtused ja protsessid võivad suure tõenäosusega esineda nimetatud kohtades? Tähista ristikesega

5 punkti

Nähtus, protsess	Sumatra saar	Bangladesh	Alaska poolsaar
Vulkaanipurse			
Tugev orkaan või tornaado			
Ulatuslikud maalihked			
Ulatuslik põud			
Igikelts			
Tsunami			

**11. Joonistel on kujutatud Doonau jõe äravoolu kahes eri kohas. Vii kokku koht kaardil ja vastav äravoolugraafik. Miks on vooluhulga muutumine neis kohtades erinev? 4 punkti**




Kohale A vastab äravoolugraafik ....., sest .....

Kohale B vastab äravoolugraafik ....., sest .....

**12. Porkuni järv jäi kuivaks 2006. aasta sügisel ja täitus veega alles 2007. aasta jaanuaris. Jõgedel algas veetaseme langus suvel ja veetase tõusis sügisel. Miks Porkuni järves toimusid need protsessid sellise hilinemisega? 2 punkti**

**13. Mida on pildil kujutatud? Selgita. 3 punkti**



Pildil on kujutatud

**14. Millistest kaardil märgitud kohtadest on tehtud need pildid. Mida on pildil kujutatud? 5 punkti**

Pilt 1 on ....., sellel on .....

Pilt 2 on ....., sellel on .....

Pilt 3 on ....., sellel on .....

Pilt 4 on ....., sellel on .....

Pilt 5 on ....., sellel on .....

