

nimi klass kool

Lõppvoorü küsimused gümnaasiumile

1. Vii kokku linn ja selle tunnuslause.

3 punkti

Quito New Orleans Gdańsk
 Zürich Buenos Aires Kopenhaagen

A – tuhande tõusnud linn B – dzässi metropol C – lõputu kevade linn
 D – tolerantsuse kehastus E – tango pealinn F – maailma rahanduskeskus

2. Millest sõltub maapinnale langeva päikesekiirguse intensiivsus?

3 punkti

.....

3. Matternhorni mäetipp Šveitsis on tuntud oma kuju poolest. Kuidas on sellise kujuga tipp kujunenud?

2 punkti

.....

4. Millised muutused tekkisid looduses seoses Narva jõe paisutamise ja veehoidla rajamisega?

3 punkti

.....

5. Milliseid pinnavorme leidub Ida-Virumaal? Liigita need pinnavormid tekke alusel.

5 punkti

Pinnavormide teke	Pinnavormid

6. Kuidas on omavahel seotud Kaledoonia kanal ja Glen More'i murrangulõhe Šotimaal Newfoundlandi saare ja St Lawrence'i jõega?

3 punkti

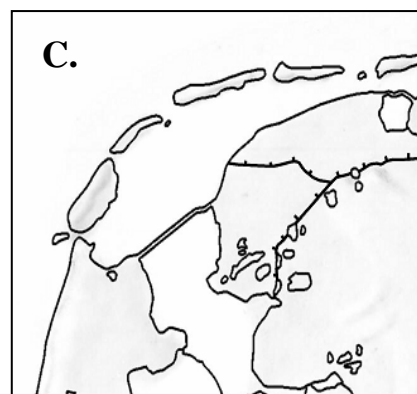
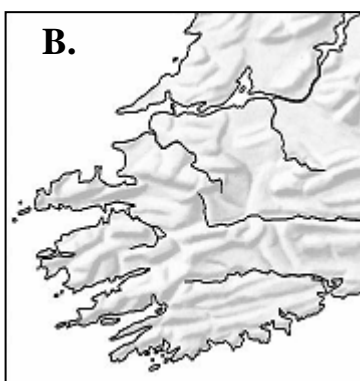
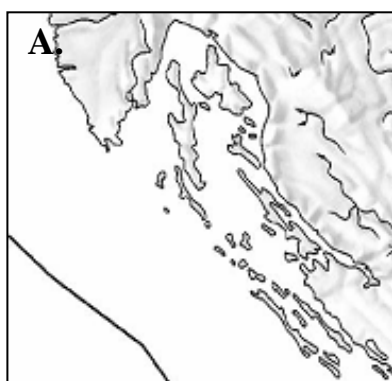
.....



7. Kuidas avaldavad soojuselektrijaamad negatiivset mõju keskkonnale ja millised on võimalikud tagajärjed? 4 punkti

Mõju looduskeskkonnale	Võimalikud tagajärjed
<i>fossiilsete kütuste põletamise tulemusena paisatakse õhku tohutul hulgal süsihappegaasi</i>	<i>Süsihappegaas võimendab kasvuhooneefekti, mis viib kogu maakera kliima soojenemisele</i>

8. Mis Euroopa riikide rannikutest on kaardid? Kuidas on need rannikud tekkinud. 6 punkti



A. riik Selline rannik on tekkinud

B. riik Selline rannik on tekkinud

C. riik Selline rannik on tekkinud

9. Miks on Alutaguse Eesti üks suurima soostumusega piirkondi? 4 punkti

.....

10. Miks on Alutaguse koos Viru lavamaaga Eesti kõige mandrilisema kliimaga region? 2 punkti

.....

11. a) Miks rajati Narva Euroopa suurimaid tekstiilitööstusi?

2 punkti

b) Miks ei ole tänapäeval tekstiilitööstus Narvas konkurentsivõimeline?

2 punkti

12. Miks muinasajal oli asustus levinud vaid praeguse Ida-Virumaa põhjaosas, aga lõunaosas oli tühi?

2 punkti

13. Too välja pealmaakaevandamise (karjääriviisilise) kaevandamise eelised ja puudused allmaakaevandamisega võrreldes.

4 punkti

<p>Pealmaakaevandamise eelised:</p>	<p>Pealmaakaevandamise puudused:</p>
-------------------------------------	--------------------------------------

14. Võrdle Narva ja Pärnu 2000. a. rahvastikupüramiidi (protsentides) . Too esile peamised erinevused ja selgita lühidalt nende põhjusi.

5 punkti

