

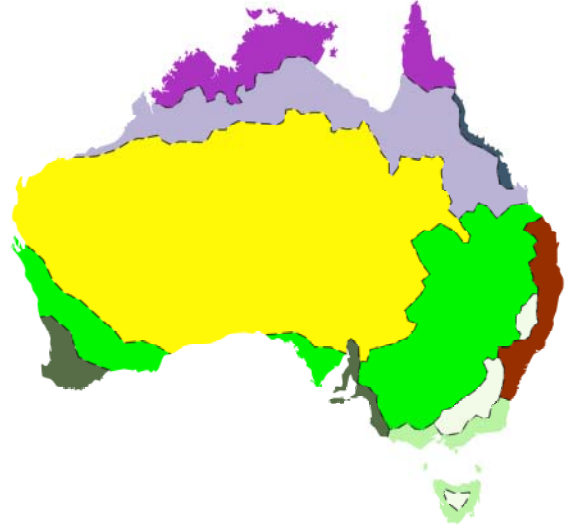
nimi kool

Lõppvooru küsimused 8. klassile

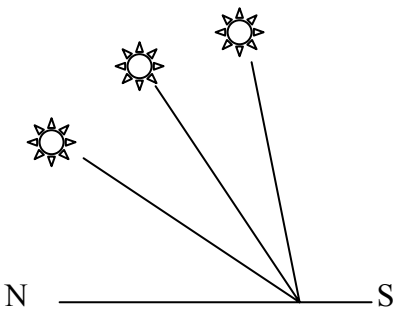
Ilma atlaseta

1. Paiguta Austraalia loodusvööndeid märkivad tähed kaardile õigesse kohta. *3 punkti*

- A. kõrbed
- B. lähisekvatoriaalsed rohtlad
- C. lähistroopika niisked metsad
- D. lähistroopilised rohtlad
- E. vahemereline põõsastik
- F. vihmametsad



2. Skeemil on kujutatud päikese kõrgust horisondil suvisel ning talvisel pööripäeval ning kevadise ja sügise võrdpäevsuse ajal. Millisele loetletud kohtadest on see tüüpiline? Põhjenda. *3 punkti*



- A. Los Angeles
- B. Kaplinn
- C. Hongkong
- D. Rio de Janeiro

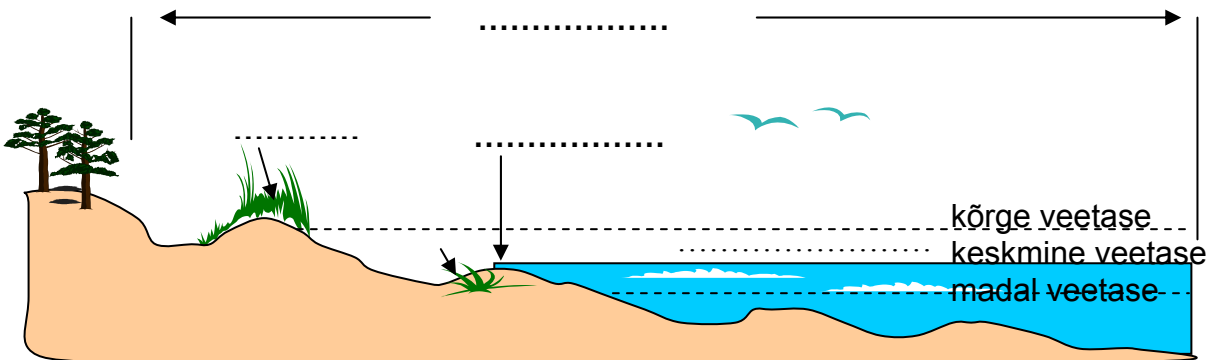
.....

.....

.....

3. a) Märki skeemile õigesse kohta: rannajoon, rannik ja rand.

4 punkti



b) Nimeta põhjuseid, miks rannikud on erinevad (mis tegurid rannikuid mõjutavad)?

- 1. 2.
- 3. 4.

4. Joonistel on kujutatud aastane veetaseme kõikumine Niiluses Kairo ja Hartumi lähistel. Miks on see nii erinev? 4 punkti

.....

.....

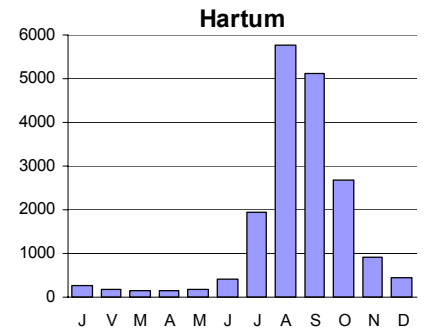
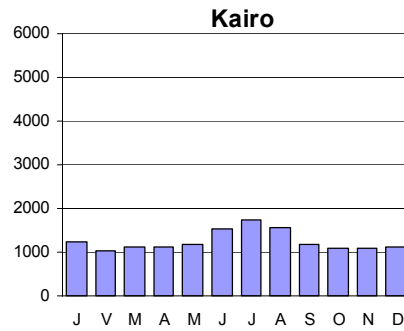
.....

.....

.....

.....

.....



5. Selgita lühidalt, miks on järgmistel meredel sellised nimed? 3 punkti

Must meri

Punane meri

Kollane meri

6. a) Millise maailma riigi pealinn asub merepinnast kõige kõrgemal? 4 punkti

.....

b) Millise Eesti pikimate hulka kuuluva tuntud jõe lähte ja suudme vaheline kaugus on üle kolme korra lühem kui jõe pikkus.

.....

7. Cork, Varssavi ja Saratov asuvad enam-vähem samal laiusel, kuid nende kohtade kliima on üsnagi erinev. 6 punkti

a) Selgita atlase abil (leia konkreetsed arvud), milles see erinevus seisneb ja mis seda põhjustab.

b) Kuidas kajastub see erinevus looduse ilmes (mis loodusvöönditesse jäävad ja mille poolest erinevad)?

Kirjuta näitajad	Cork	Varssavi	Saratov
Miks kliima erinev?			
Mis loodusvöönd?			

8. Otsusta, millised päevakajalised väited on tõesed ja millised väärad. Paranda vead! 4 punkti

➤ Vaindloo saare lähistel uppunud laeva tekitatud naftareostus tappis tuhandeid linde. TÕENE/VÄÄR

➤ Piusa koopad suleti külastajatele, sest seal elavad nahkhiired võeti rangema kaitse alla. TÕENE/VÄÄR

➤ Üle 9 m kerkinud Tisza jõgi uputab Ungarit, Vojvodinat ja Serbiat. TÕENE/VÄÄR

➤ Jakarta elanikud elavad vulkaanipurske hirmus, alustatakse evakueerimist. TÕENE/VÄÄR

9. Millistes järgnevalt loetletud piirkondades ei ole tänapäeval liustikke? 6 punkti

Austraalia, Aafrika, USA, Indoneesia, Lõuna-Ameerika, Euroopa

b) Miks ei ole neis piirkondades liustikke?

c) Lõunapooluse ümbrus on kaetud paksu mandriliustikuga. Miks ei kujune liustikku aga põhjapooluse ümber?

d) Millises järgnevalt loetletud mäestik on pikimad liustikud? Põhjenda.

Alpid, Kaukasus, Pamiir, Skandinaavia mäestik

10. Loetelus on faktid kolme tuntud järve kohta. Mis järved need on? Kui oled järve nime kindlaks teinud, siis pane faktid (numbrid) õige järve nime taha. Mõni fakt võib kehtida mitme järve kohta.

1. maailma suurim järv, 2. 1620 m, 3. tähtis kalapüügi piirkond, 3. maailma sügavaim järv, 4. -27 m, 5. 68 000 km², 6. Ida-Aafrika murranguvööndis, 7. tektooniline järv, 8. jäänukjärv kunagisest ookeanist, 9. palju saari 6 punkti

a) järv

b) järv

a) järv

11. Selgita väidet: *Naftareostus ohustab kõiki metsaelanikke.* 2 punkti

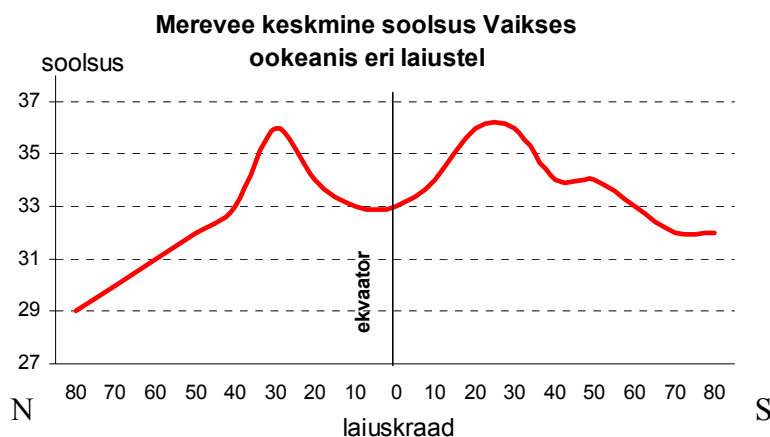
12. Millistel kuudel on järgmistes turismikeskustes tippahooaeg? Põhjenda. 3 punkti

Rovaniemi

Innsbruck

Phuket

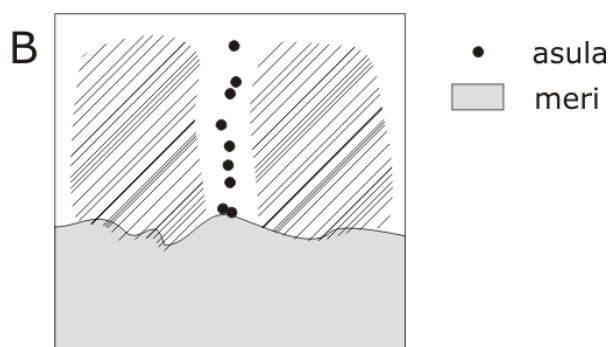
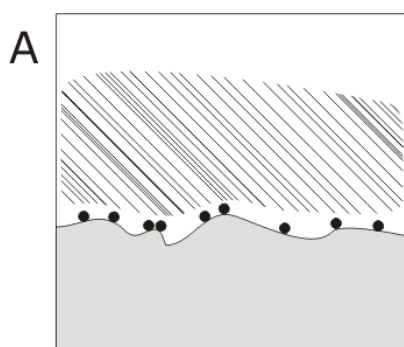
13. Selgita skeemi abil merevee soolsuse erinevusi eri laiustel Vaikse ookeani näitel. 3 punkti



Nähtus	Loodusvöönd(id)	Mis probleemid kaasnevad selle nähtusega inimtegevusele?	Kuidas neid probleeme lahendada?
liivatormid			
igikelts			
muldade sooldumine			
mussoon-vihmadest põhjustatud tulvad			

15. Kirjelda pinnamoe eripära viirutatud aladel.

3 punkti



• asula
 □ meri

A.

B.

