

nimi ..... kool .....

### Lõppvooru küsimused 7. klassile

1. a) Millistes järgnevalt loetletud piirkondades ei ole tänapäeval liustikke? 8 punkti

*Austraalia, Aafrika, USA, Indoneesia, Lõuna-Ameerika, Euroopa*

b) Miks ei ole neis piirkondades liustikke? .....

c) Lõunapooluse ümbrus on kaetud paksu mandriliustikuga. Miks ei kujune liustikku aga põhjapooluse ümber? .....

d) Millises järgnevalt loetletud mäestik on pikimad liustikud? Põhjenda. *Alpid, Kaukasus, Pamiir, Skandinaavia mäestik* .....

2. Loetelus on faktid kolme tuntud järve kohta. Mis järved need on? Kui oled järve nime kindlaks teinud, siis pane faktid (numbrid) õige järve nime taha. Mõni fakt võib kehtida mitme järve kohta

*1. maailma suurim järv, 2. 1620 m, 3. tähtis kalapüügipiirkond, 3. maailma sügavaim järv, 4. -27 m, 5. 68 000 km<sup>2</sup>, 6. Ida-Aafrika murranguvööndis, 7. tektooniline järv, 8. jäänukjärv kunagisest ookeanist, 9. palju saari* 6 punkti

a) ..... järv .....

b) ..... järv .....

c) ..... järv .....

3. Cork, Varssavi ja Saratov asuvad enam-vähem samal laiusel, kuid nende kohtade kliima on üsnagi erinev. Selgita atlase abil (leia konkreetsed näitajad), milles see erinevus seisneb ja mis seda põhjustab.

6 punkti

4. Millised kohanimed on jätnud maailmakaardile Eestist pärit maadeavastajad? 3 punkti

5. Koosta iga toodud mõistetega üks geograafilise sisuga lause nii, et selgitaksid ära mõiste olemuse ja seoksid selle kohanimega. Kohanimed saad valida järgmisest loetelust. 3 punkti

mõisted: *seniit, tuulealune nõlv, alamik*; kohanimed: *Suur Veelahkmeahelik, Kairo, Holland*

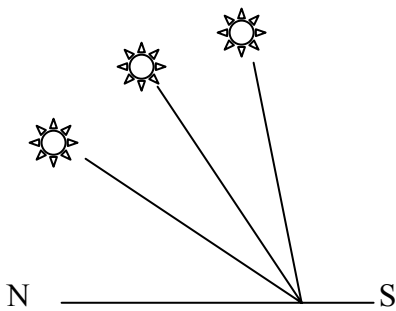
a) .....

b) .....

c) .....

6. Kus on polaaröö pikem, kas Murmanskis või Jan Mayeni saarel? Põhjenda. 2 punkti

7. Skeemil on kujutatud päikese kõrgust horisondil suvisel ning talvisel pööripäeval ning kevadise ja sügisese võrdpäevsuse ajal. Millisele loetletud kohtadest on see tüüpiline. Põhjenda. 3 punkti



- A. Los Angeles
- B. Kaplinn
- C. Hongkong
- D. Rio de Janeiro

.....

.....

8. Joonistel on kujutatud aastane veetaseme kõikumine Niiluses Kairo ja Hartumi lähistel. Miks on see nii erinev? 4 punkti

.....

.....

.....

.....

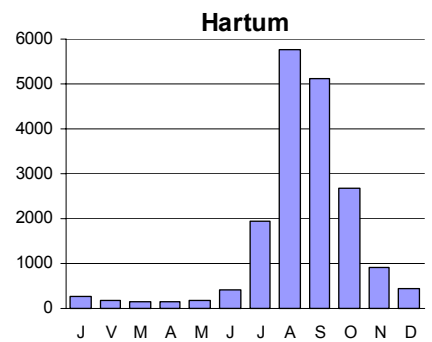
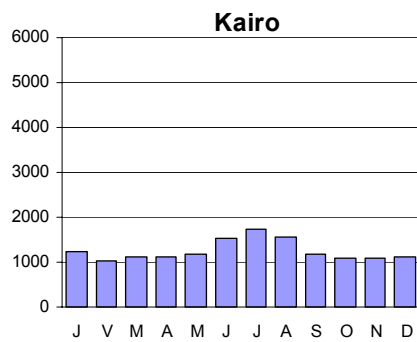
.....

.....

.....

.....

.....



9. Selgita lühidalt, miks on järgmistel meredel sellised nimed? 3 punkti

- Must meri .....
- Punane meri .....
- Kollane meri .....

10. Rühmita pinnavormid ühiste tunnuste abil nii mitmesse rühma kui oskad ja kirjuta igale rühmale pealkiri. 6 punkti  
*moreenküngas, lammorg, maasäär, karjäär, oos, kanali säng, sälkorg, murrutuskulbas, aherainemägi, voor, delta, rannavall*

11. a) Millise maailma riigi pealinn asub merepinnast kõige kõrgemal? 3 punkti

.....

b) Millise Eesti pikimate hulka kuuluva tuntud jõe lähte ja suudme vaheline kaugus on üle kolme korra lühem kui jõe pikkus. ....

12. Otsusta, millised päevakajalised väited on tõesed ja millised väärad. Paranda vead! 4 punkti

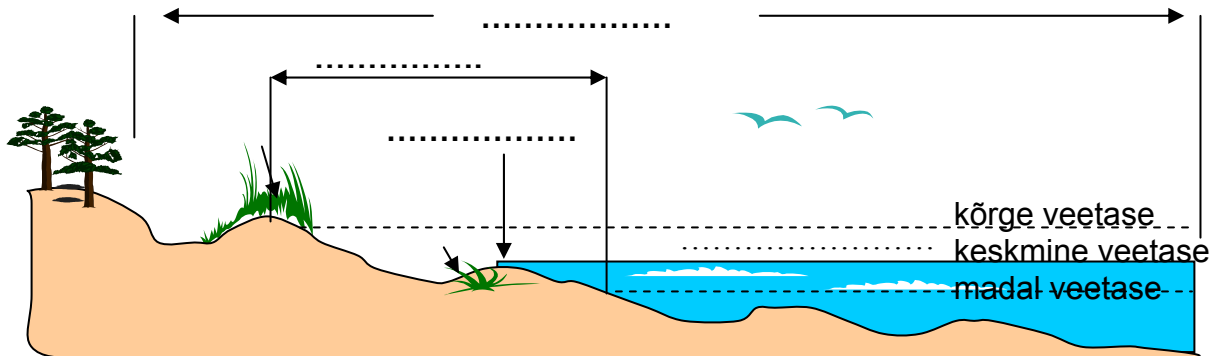
- Vaindloo saare lähedal uppunud laeva tekitatud naftareostus tappis tuhandeid linde. TÕENE/VÄÄR
- Piusa koopad suleti külastajatele, sest seal elavad nahkhiired võeti rangema kaitse alla. TÕENE/VÄÄR
- Üle 9 m kerkinud Tisza jõgi uputab Ungarit, Vojevodat ja Serbiat. TÕENE/VÄÄR
- Jakarta elanikud elavad vulkaanipurske hirmus, alustatakse evakueerimist. TÕENE/VÄÄR

13. Selgita väidet: *Naftareostus ohustab kõiki metsaelanikke.*

2 punkti

14. Märki skeemile õigesse kohta: rannajoon, rannik ja rand ning selgita, mida need mõisted tähendavad.

4 punkti



rannajoon .....

rand .....

rannik .....

15. Millal on järgmistes turismikeskustes tippaeg? Põhjenda.

3 punkti

Rovaniemi .....

Innsbruck .....

Phuket .....

16. Mis kohtadest kaardil on need pildid tehtud?

4 punkti

