

Вопросы уездного тура олимпиады по географии для 9 класса

1. Как повлиял январский шторм 2005 года на Балтийское море? 2 балла

.....

.....

2. Распредели погодные явления по группам и придумай название для каждой группы. Явления распределяются неравномерно. 4 балла

Тромб, иней, мираж, гололед, изморозь, северное сияние, роса, шквал, ураган, радуга, гроза

3. Каково влияние потепления климата на внутренние водоемы Эстонии? 4 балла

- a)
- b)
- c)
- d)

4. Объясни механизм возникновения ветровых, стоковых и плотностных течений, приведи по одному примеру каждого из них. 6 баллов

ветровые течения

.....

стоковые течения

.....

плотностные течения

.....

5. Как возникла Куршская коса? 2 балла

.....

.....

Как называется типа водоема, образовавшийся между косой и берегом? 1 балл

Каково значение Куршской косы для экономики приморской части Литвы? 3 балла

- a)
- b)
- c)

6. На территории многих государств, расположенных в пределах этой карты, существуют государства и территорий сепаратистов, которые *de facto* или *de jure* не зависят от центрального правительства или получают независимость *de jure* в 2006-ом году. Отметь эти проблемные регионы на карте (штриховкой и номером).



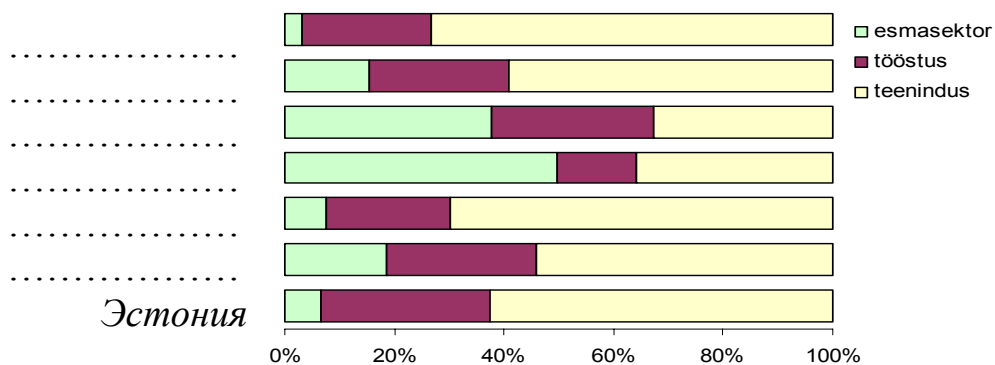
Регионы

1.
2.
3.
4.
5.
6.
7.
8.

8 баллов

7. У каких финно-угорских народов есть свои национальные республики в России? 3 балла
8. На диаграмме показана занятость населения в основных секторах экономики в перечисленных ниже европейских странах. Напиши названия стран возле соответствующих им столбцов диаграммы. Дания, Латвия, Литва, Исландия, Молдова, Румыния. 3 балла

первичный сектор; промышленность; сфера обслуживания



9. Что это за логотипы?

3 балла

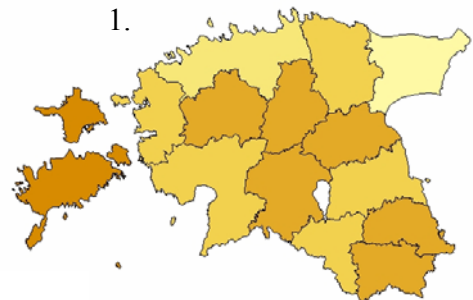


10. Что изображено на четырех тематических картах? Выбери ответы из предложенных вариантов и соедини их с соответствующими картами.

4 балла

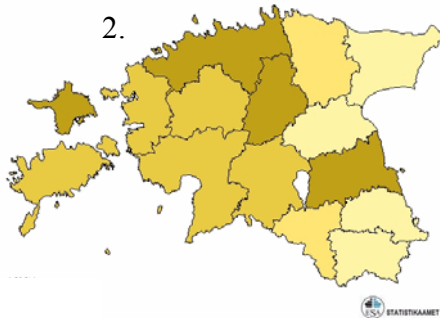
- A. Доля 65-летних и старше людей в населении уездов.
- B. Средняя зарплата-брутто в уездах.
- C. Уровень занятости в уездах.
- D. Доля эстонцев в населении уездов.
- E. Доля детей (0-14 лет) в населении.
- F. Плотность населения в уездах.

1.

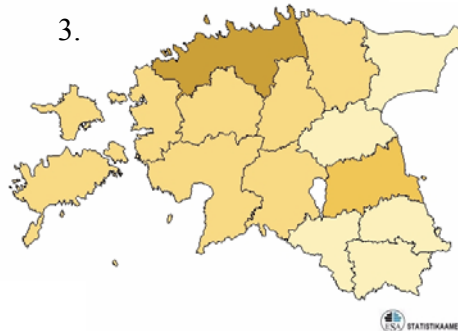


тёмный цвет соответствует более высокому показателю

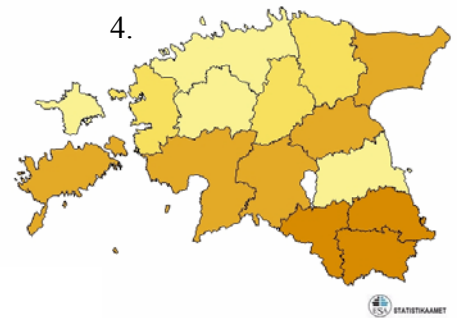
2.



3.



4.

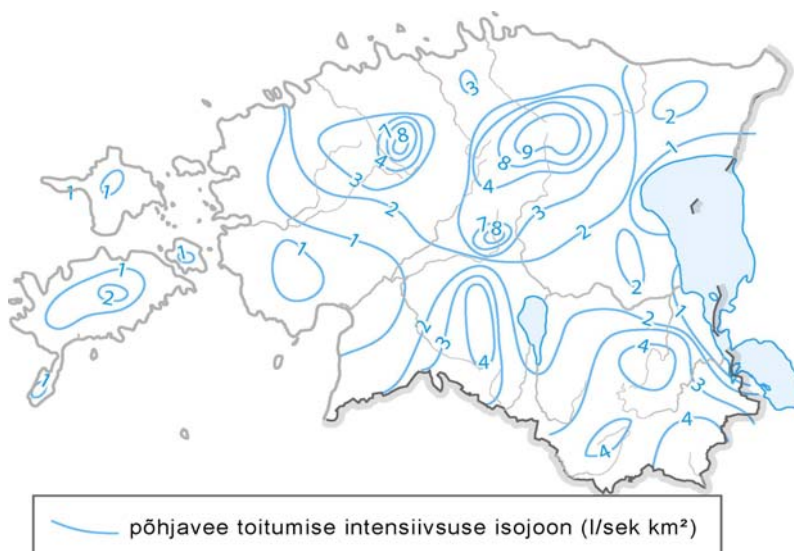


11. Выбери одну из карт и объясни с ее помощью причины региональных различий.

2 балла

.....

.....



12. Объясни с помощью карты различия в питании подземных вод в Эстонии

4 балла

.....

.....

.....

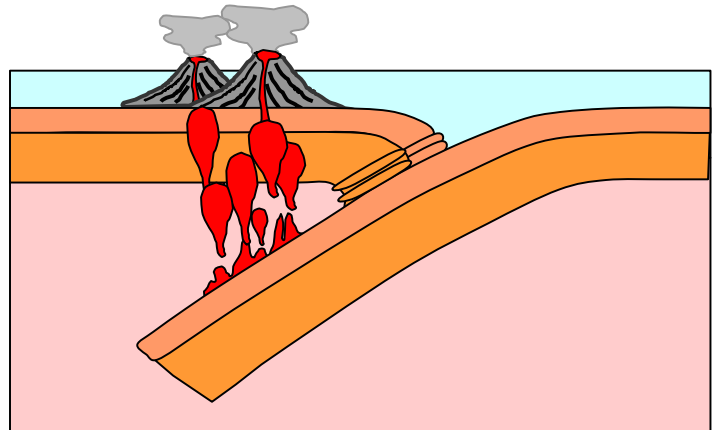
.....

изолиния интенсивности питания подземных вод (л/сек км²)

13. Дай схеме правильное название. Добавь недостающие стрелки и пояснения.


4 балла

.....
.....
.....



14. В каких столицах сделаны эти фотографии?

5 баллов



15. Газовый конфликт между Украиной и Россией вызвал перебои в энергоснабжении стран Европейского Союза. Каково значение Турции для Европейского Союза с точки зрения предотвращения подобных проблем в будущем?

3 балла

.....
.....