


**Вопросы уездного тура олимпиады по географии для 7 класса**

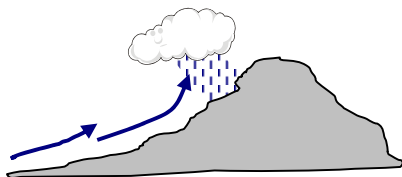
1) Эстонская команда отправляется на международную олимпиаду по географии в Австралию, в город Брисбен. Из Риги они вылетят в 7.10 в Вену, куда прибудут в 8.10. Там сядут в 10.30 на самолет до Сингапура, который будет находиться в воздухе 11 часов. Из Сингапура команда вылетит в 9.30 и прибудет в Брисбен в 19.30. 4 балла

- a) Во сколько самолет прибывает в Сингапур? .....
- b) Сколько часов длится полет из Сингапура в Брисбен? .....
- c) Сколько часов команда проведет в воздухе? .....
- e) Сколько всего часов продлится путешествие из Риги в Брисбен? .....

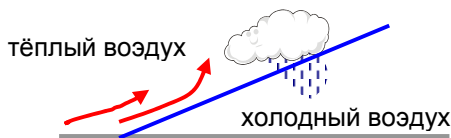
2) Облака и осадки образуются по разным причинам. Посмотри на схемы и объясни каждый случай образования облаков и осадков. 6 баллов



a) .....  
 .....  
 .....



b) .....  
 .....  
 .....



c) .....  
 .....  
 .....

3) Назови причины, затрудняющие покорение высоких горных вершин. 4 балла

- 1. ....
- 2. ....
- 3. ....
- 4. ....

4) Проверь правильность текста. Исправь ошибки. 5 баллов

Расположенный в восточном углу Балтийского моря Куршский залив представляет собой мелкий, полузамкнутый, довольно соленый водоем, где не бывает приливов и отливов. Это самый большой фьрд Балтийского моря. Вода в залив поступает в основном из реки Нямунас, и вытекает в Балтийское море. Куршская коса знаменита своими подвижными дюнами, которые образуют цепь, протяженностью 31 км и высотой 400-600 м. В политическом отношении Куршский залив делится на две части: северная принадлежит Литве, а южная Польше.

5) Объясни с помощью рисунков как выглядят конечные морены и озы, и как они возникли.

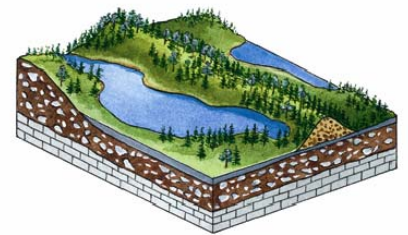
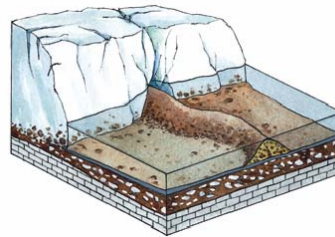
4 балла

Конечные морены.....

Они возникли.....

Озы .....

Они возникли.....



6) Какими явлениями природы, помимо цунами, могут сопровождаться землетрясения? 2 балла

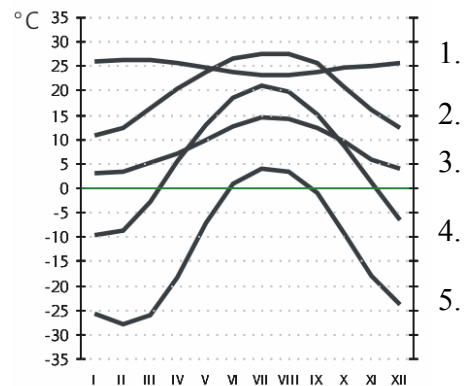
7) Заполни пропуски в девизах Эстонских городов и уездов.

3 балла

..... город хорошей энергии	..... город между рекой и морем
..... один город, два государства	..... город хороших мыслей
..... в вихре добрых ветров	..... сердце эстонии
..... полон сил	..... üts umamuudu liin
..... в древнем ритме	..... безопасное гнездовье
..... королевское достоинство, сила Калевипоэга	..... место, где сбываются мечты.

8) На диаграмме показаны годовые колебания температуры в пяти различных городах. Соедини город с соответствующей линией на диаграмме. 5 баллов

	<i>номер на рисунке</i>
Нью-Орлеан	.....
Сан-Сальвадор	.....
Монреаль	.....
Барроу	.....
Эдинбург	.....



9) Определи географические координаты южного магнитного полюса.

2 балла

.....

10) Распредели перечисленные горные породы в порядке убывания скорости их выветривания – от менее стойких к наиболее стойким. Поясни. 2 балла


*Песчаник, мрамор, известняк, гранит*

.....  
 .....

11) Какая картина типична для Армении и какая для Азербайджана? Поясни ответ. 4 балла

A. ....

B. ....



.....  
 .....  
 .....  
 .....  
 .....

12. а) Что изображено на этом рисунке? .....

*6 баллов*

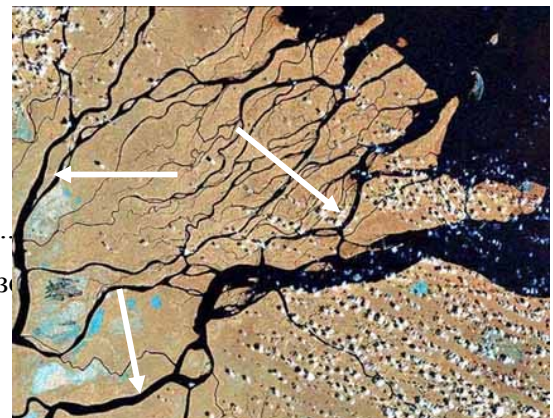
б) Объясни, как это образуется? .....

.....  
 .....

в) Что обозначено стрелками? .....

г) Приведи с помощью карты четыре примера такого образования? .....

.....



13. Посмотри на карту Европы следующего вопроса. Соедини обозначенные на карте места с их описанием. 6 баллов

Здесь находится главный водораздел Европы. ....

В этой стране два главы государства .....

Здесь находится самая высокая вершина страны (2123 м) .....

В этой местности можно увидеть ледниковые формы рельефа .....

Здесь есть шхеры .....

Это побережье называют Далматинским. ....

14. Укажи на карте походы варягов, начинавшиеся от Балтийского моря . До куда они добирались и по каким рекам? 4 балла

.....  
.....

